



●●● واللّٰهُ يُحِبُّ الْمُطَهَّرِينَ... (سوره توبه، آیه ۱۰۸) ●●●

و خداوند پاکیزگان را دوست دارد.

● هوا، آب، پوشاک، بدن و زمین از جمله موهبت‌های الهی هستند که پیوسته باید برای پاکیزه نگهداشتن آنها بکوشیم. پاکیزگی رفتاری شایسته، نشاط‌آور و مایه آرامش است که بستری مناسب برای سلامت، رشد و بالندگی انسان و جامعه فراهم می‌کند. انسان‌ها با الهام از طبیعت و شناخت مولکول‌ها و رفتار آنها، راهی برای زدودن آلودگی‌ها پیدا کردند. راهی که با استفاده از مواد شوینده هموارتر می‌شود. این مواد براساس خواص اسیدی و بازی عمل می‌کنند. از این رو آشنایی با رفتار اسیدها و بازها می‌تواند ما را در تهیه و استفاده بهینه از شوینده‌ها یاری کند.

## آیا می دانید

سالانه میلیون ها تن از انواع شوینده ها در جهان مصرف می شود. صنعت شوینده ها و فرآورده های پاک کننده، یکی از صنایع بزرگ و سودآور است که سالانه سود فراوانی را نصیب صاحبان آن می کند.



● امروزه، بسته به هر نوع نیاز و کاربرد، شوینده و پاک کننده مناسب در بازار یافت می شود.

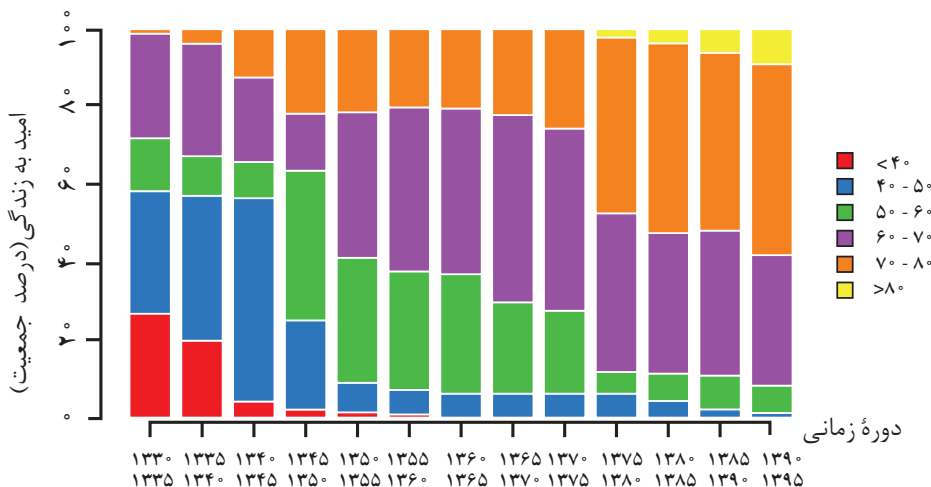
پاکیزگی و بهداشت همواره در زندگی جایگاه و اهمیت شایانی داشته است. یکی از دلایل اسکان انسان در کنار رود و رودخانه این بود که با دسترسی به آب، بدن خود را بشوید و ابزار، ظروف و محیط زندگی خود را تمیز نگاه دارد. حفاری های باستانی از شهر بابل نشان می دهد که چند هزار سال پیش از میلاد، انسان ها به همراه آب از موادی شبیه صابون امروزی برای نظافت و پاکیزگی استفاده می کردند. نیاکان ما نیز به تجربه پی بردند که اگر ظرف های چرب را به خاکستر آغشته کنند و سپس با آب گرم شست و شو دهند، آسان تر تمیز می شوند.

در گذشته به دلیل در دسترس نبودن، کمبود یا استفاده نکردن از صابون، سطح بهداشت فردی و همگانی بسیار پایین بود، به طوری که بیماری های گوناگون به سادگی در جهان گسترش می یافت. برای نمونه وبا یک بیماری واگیردار است که به دلیل آلوده شدن آب و نبود بهداشت شایع می شود. این بیماری در طول تاریخ بارها در جهان همه گیر شد و جان میلیون ها انسان را گرفت. این بیماری هنوز هم می تواند برای هر جامعه تهدید کننده باشد. ساده ترین و مؤثرترین راه پیشگیری این بیماری، رعایت بهداشت فردی و همگانی است.

با گذشت زمان، استفاده از صابون و توجه به نظافت و بهداشت در جوامع گسترش یافت و سبب شد تا میکروب ها، آلودگی ها و عوامل بیماری زا در محیط های فردی و همگانی کاهش یافته و سطح بهداشت جامعه افزایش یابد. با افزایش سطح تندرستی و بهداشت فردی و همگانی، شاخص امید به زندگی نیز در جهان افزایش یافته است. شاخصی که نشان می دهد با توجه به خطراتی که انسان ها در طول زندگی با آن مواجه هستند، به طور میانگین چند سال در این جهان زندگی می کنند.

## خود را بیازمایید

نمودار زیر توزیع جمعیت جهان را براساس امید به زندگی آنها در دوره های زمانی گوناگون نشان می دهد.



آ) با توجه به نمودار، جدول زیر را برای گستره سنی ۴۰ تا ۵۰ سالگی کامل کنید.

دوره زمانی	۱۳۳۵-۱۳۳۰	۱۳۶۵-۱۳۷۰	۱۳۹۵-۱۳۹۰
درصد جمعیت			

## آیا می دانید

شاخص امید به زندگی به عوامل گوناگونی مانند میزان شادی افراد جامعه، سلامت محیط زیست، سطح آگاهی مردم، میزان ورزش همگانی، نوع تغذیه و نیز شیوه و میزان ارائه خدمات بهداشتی و درمانی وابسته است. براساس آمار سازمان بهداشت جهانی مردم کشور موناکو بیشترین امید به زندگی را با میانگین سنی بیش از ۸۵ سال و مردم کشور سیرالئون کمترین امید به زندگی را با میانگین سنی زیر ۵۰ سال دارند. میانگین سنی امید به زندگی در ایران ۷۳/۵ سال است.

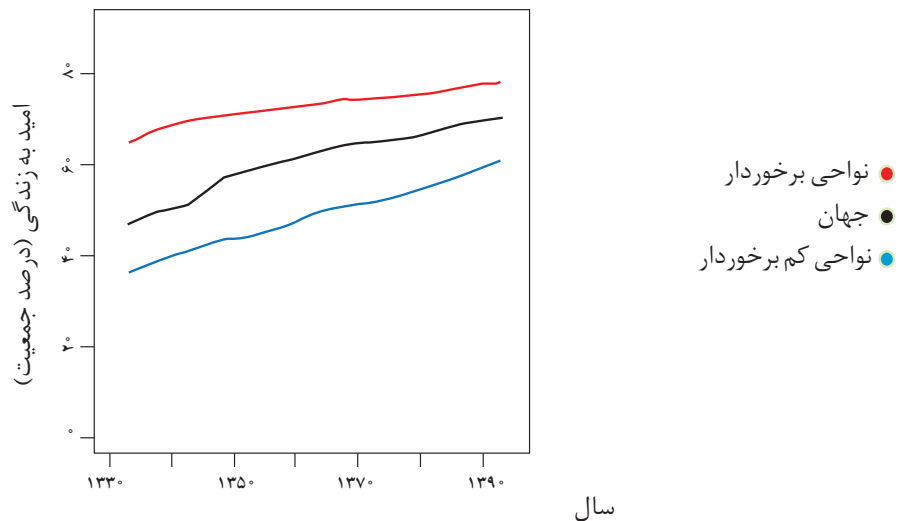
ب) در دوره زمانی ۱۳۳۰ تا ۱۳۳۵، امید به زندگی برای چند درصد از مردم جهان در بین ۴۰ تا ۵۰ سال بوده است؟

پ) در دوره زمانی ۱۳۷۰ تا ۱۳۷۵ امید به زندگی برای بیشتر مردم دنیا در حدود چند سال است؟

ت) با گذشت زمان، امید به زندگی در سطح جهان افزایش یافته است یا کاهش؟ توضیح دهید.

ث) امروزه امید به زندگی برای بیشتر مردم دنیا، در حدود چند سال است؟

امید به زندگی شاخصی است که در کشورهای گوناگون و حتی در شهرهای یک کشور نیز با هم تفاوت دارد، زیرا این شاخص به عوامل گوناگونی بستگی دارد. نمودار ۱ نشان می دهد که در مناطق توسعه یافته و برخوردار، امید به زندگی در مقایسه با مناطق کم برخوردار بیشتر است.



نمودار ۱- مقایسه امید به زندگی برای مناطق برخوردار و کم برخوردار با میانگین جهانی

سلامت و بهداشت در امید به زندگی اهمیت بسیاری دارد و در راستای ارتقای آن پاک کننده‌ها و شوینده‌ها نقش پررنگی ایفا می کنند. آیا تاکنون اندیشیده‌اید که شوینده‌ها و پاک کننده‌ها از نظر شیمیایی چه ساختاری دارند؟ چگونه این مواد سبب پاک شدن یا از بین رفتن آلودگی‌ها می شوند؟ رفتار این مواد در محیط‌های شیمیایی چگونه است؟ شوینده‌ها و

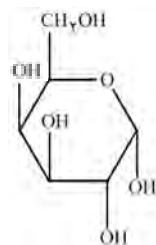
پاک کننده‌هایی مانند صابون، شامپو و پودر لباس‌شویی چگونه عمل می‌کنند؟ ورود این مواد به محیط‌زیست چه زیان‌هایی به دنبال دارد؟ تأثیر این مواد روی بدن چیست؟ آگاهی بیشتر از علم شیمی کمک می‌کند تا چگونگی عملکرد این مواد را درک کنیم و با شوینده‌هایی آشنا شویم که آسیب کمتری به محیط‌زیست وارد می‌کنند. همچنین با روش استفاده درست و مصرف مناسب آنها در راستای افزایش سطح بهداشت فردی و همگانی آشنا خواهید شد.

## پاکیزگی محیط با مولکول‌ها

هر یک از افراد جامعه برای انجام فعالیت‌های روزانه خود در هر محیطی، کم و بیش در معرض انواع آلاینده‌هاست، به طوری که بدن، پوشاک و ابزار که با آنها سروکار دارد، آلوده می‌شود. آلاینده‌ها موادی هستند که بیش از مقدار طبیعی در یک محیط، ماده یا یک جسم وجود دارند. گل‌ولای آب، گرد و غبار هوا، لکه‌های چربی و مواد غذایی روی لباس‌ها و پوست بدن نمونه‌هایی از انواع آنها هستند. برای داشتن لباس پاکیزه، هوای پاک و محیط بهداشتی باید این آلودگی‌ها را زدود. اکنون فرض کنید هنگام خوردن عسل مقداری از آن روی لباس می‌ریزد و دست‌ها به آن آغشته می‌شود. چگونه می‌توان این عسل را پاک کرد؟ لکه‌های دیگر را چگونه می‌توان زدود؟ برای یافتن پاسخ این پرسش‌ها باید به بررسی ساختار و رفتار ذره‌های سازنده آلاینده‌ها و مواد شوینده و نیز نیروهای بین مولکولی آنها پرداخت.

## آیا می‌دانید

عسل به طور عمده حاوی قندهایی مانند گلوکز، فروکتوز، ساکاروز و مالتوز است. مولکول‌های سازنده این قندها شمار زیادی گروه هیدروکسیل دارند. از این رو عسل حاوی قندهای ساده و بسیار قطبی است و لکه‌های باقی‌مانده از آنها روی لباس‌ها در حلال‌های قطبی مانند آب حل شده و شسته می‌شود.



## خود را بیازمایید

جدول زیر را کامل کنید و در هر مورد دلیل انتخاب خود را توضیح دهید.

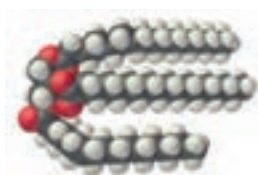
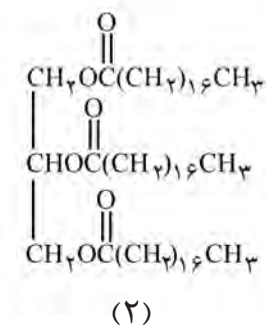
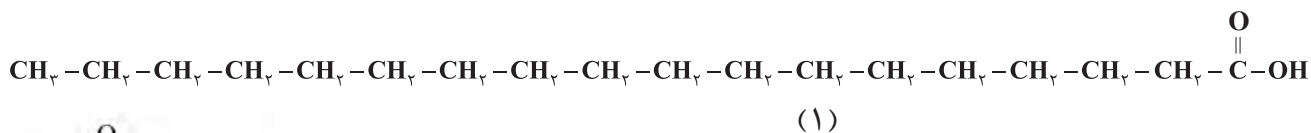
نام ماده	فرمول شیمیایی	محلول در آب	محلول در هگزان
اتیلن گلیکول (ضدیخ)	$\text{CH}_2\text{OHCH}_2\text{OH}$		
نمک خوراکی	$\text{NaCl}$		
بنزین	$\text{C}_8\text{H}_{18}$		
اوره	$\text{CO}(\text{NH}_2)_2$	✓	×
روغن زیتون	$\text{C}_{57}\text{H}_{114}\text{O}_6$		
وازلین	$\text{C}_{25}\text{H}_{52}$		

از شیمی ۱ به یاد دارید که مواد قطبی در حلال‌های قطبی و مواد ناقطبی در حلال‌های ناقطبی حل می‌شوند. در واقع در فرایند انحلال، اگر ذره‌های سازنده حل شونده با مولکول‌های حلال جاذبه‌های مناسب برقرار کنند، حل شونده در حلال حل می‌شود در غیر این صورت ذره‌های حل شونده کنار هم باقی می‌مانند و در حلال پخش نمی‌شوند. برای نمونه دلیل اینکه لکه عسل به راحتی با آب شسته و در آن پخش می‌شود این است که عسل حاوی مولکول‌های قطبی است که در ساختار خود شمار زیادی گروه هیدروکسیل (-OH) دارند. هنگامی که عسل وارد آب می‌شود، مولکول‌های سازنده آن با مولکول‌های آب پیوند هیدروژنی برقرار می‌کنند و در سرتاسر آن پخش می‌شوند. به این ترتیب، آب پاک‌کننده مناسبی برای لکه‌های شیرینی مانند آب قند، شربت آبلیمو و چای شیرین نیز است. اما اگر دست‌ها به چربی یا گریس آغشته شود یا روی لباس، لکه چربی بر جای بماند، چگونه باید آنها را تمیز کرد؟ در زندگی روزانه دیده‌ایم که با استفاده از صابون و شوینده‌ها می‌توان لکه‌های چربی را شست و پوست یا لباس آغشته به آنها را تمیز کرد. چگونه مولکول‌های صابون سبب پاکیزگی و زدودن لکه‌های چربی می‌شوند؟

## با هم بیندیشیم

● اسیدهای چرب، کربوکسیلیک اسیدهایی با زنجیر بلند کربنی هستند.

۱- چربی‌ها، مخلوطی از **اسیدهای چرب**<sup>۱</sup> و استرهای بلند زنجیر (با جرم مولی زیاد) هستند. با توجه به شکل‌های زیر به پرسش‌های داده شده پاسخ دهید.



آ) کدام یک فرمول ساختاری یک اسید چرب و کدام یک فرمول ساختاری یک استر با جرم مولی زیاد را نشان می‌دهد؟ چرا؟

ب) بخش‌های قطبی و ناقطبی هر مولکول را مشخص کنید.







شکل ۱- کلوئید پایدار شده آب و روغن با استفاده از صابون (البته برای نمایش بهتر به آب دو قطره رنگ افزوده شده است).



● رنگ پوششی، نمونه‌ای از یک کلوئید است.

مخلوط‌ها خواص متفاوتی دارند. برای نمونه محلول کات کبود در آب، مخلوطی همگن است که نور را عبور می‌دهد. در حالی که شربت معده یک سوسپانسیون است. مخلوطی ناهمگن که ته‌نشین می‌شود و باید پیش از مصرف آن را تکان داد.

مخلوط آب و روغن نیز ناپایدار است زیرا به محض اینکه هم زدن را متوقف کنید، آب و روغن از هم جدا شده و دولایه مجزا تشکیل می‌دهند. اما اگر مقداری صابون به این مخلوط اضافه کنید و آن را به هم بزنید یک مخلوط پایدار ایجاد می‌شود که به ظاهر همگن است. شکل ۱ رفتار این مخلوط را نشان می‌دهد که همگن نبوده و حاوی توده‌های مولکولی با اندازه‌های متفاوتی است. این نوع مخلوط‌ها، کلوئید<sup>۱</sup> نامیده می‌شوند. نور در محلول و کلوئید رفتار متفاوتی دارد (شکل ۲). شیر، ژله، سس مایونز و رنگ نمونه‌هایی از کلوئیدها هستند.



شکل ۲- مقایسه رفتار نور در یک محلول و کلوئید. ذره‌های موجود در کلوئید درشت‌تر از محلول اند و به همین دلیل نور را پخش می‌کنند.

## آیا می‌دانید

نمونه‌ای از کلوئید طلا: در این نمونه اتم‌های طلا به صورت توده‌های کوچک و بزرگ در آب پخش شده‌اند اما ته‌نشین نمی‌شوند. کلوئیدی که نخستین بار توسط مایکل فارادی تهیه شد.



## خود را بیازمایید

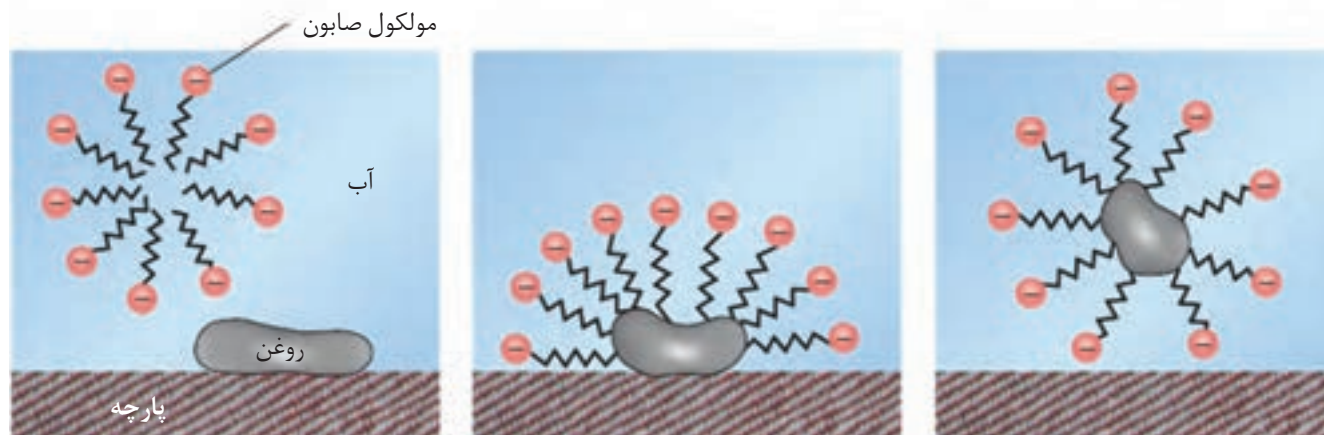
۱- در جدول زیر برخی ویژگی‌های کلوئیدها با مخلوط‌های دیگر مقایسه شده است. آن را کامل کنید.

محلول	کلوئیدها	سوسپانسیون	نوع مخلوط ویژگی
.....	.....	نور را پخش می‌کند	رفتار در برابر نور
همگن	.....	ناهمگن	همگن بودن
.....	پایدار است/ته‌نشین نمی‌شود	.....	پایداری
.....	.....	ذره‌های ریز ماده	ذره‌های سازنده

۲- درباره جمله زیر گفت‌وگو کنید.

«کلوئیدها را می‌توان همانند پلی بین سوسپانسیون و محلول‌ها در نظر گرفت.»

دریافتید که مولکول‌های صابون دو بخش قطبی و ناقطبی دارند. بخش قطبی صابون، آب دوست است در حالی که بخش ناقطبی آن چربی دوست بوده و آب گریز است. با این توصیف هنگام شست و شوی یک لکه چربی با آب و صابون، مولکول‌های صابون، لکه چربی را زدوده و پاک می‌کند. در واقع مولکول‌های صابون، پاک کننده مناسبی برای چربی‌ها به شمار می‌رود. اکنون باید دید که صابون چگونه سبب پراکنده شدن چربی در آب می‌شود؟ شکل ۳ مراحل پاک شدن یک لکه چربی از روی یک تکه پارچه را نشان می‌دهد.



شکل ۳- مراحل پاک شدن یک لکه چربی یا روغن با صابون - برای پاک کردن لکه‌های چربی از چه مواد یا روش‌های دیگری می‌توان استفاده کرد؟

هنگامی که صابون وارد آب می‌شود، به کمک سر آب دوست خود در آن حل می‌شود. از سوی دیگر، ذره‌های صابون با بخش چربی دوست خود با مولکول‌های چربی جاذبه برقرار می‌کنند، گویی مولکول‌های صابون مانند پلی بین مولکول‌های آب و چربی قرار می‌گیرند. به این ترتیب، ذره‌های چربی کم کم از سطح پارچه جدا و در آب پخش می‌شوند. با ادامه این فرایند، همه لکه‌های چربی از روی لباس پاک می‌شود. باید توجه داشت که قدرت پاک کنندگی صابون به عوامل گوناگونی بستگی دارد. هر اندازه صابون بتواند مقدار بیشتری از آلاینده و چربی را بزدايد، قدرت پاک کنندگی بیشتری دارد. در واقع صابون همه لکه‌ها را به یک اندازه از بین نمی‌برد. زیرا نوع پارچه، دما، نوع آب و مقدار صابون نیز بر روی قدرت پاک کنندگی آن تأثیر دارد.

## کاوش کنید ۱

درباره «پاک کنندگی صابون در آب‌های گوناگون» کاوش کنید.

**وسایل و مواد مورد نیاز:** منیزیم کلرید، کلسیم کلرید، آب مقطر، بشر، قاشقک.

۱- سه بشر ۱۰۰ mL بردارید و آنها را از ۱ تا ۳ شماره گذاری کنید.

۲- درون هر بشر ۵۰ mL آب مقطر و یک قاشق چای خوری صابون رنده شده بریزید.

۳- به محتویات بشر شماره ۲، نصف قاشق چای خوری منیزیم کلرید و به محتویات بشر شماره ۳،



نصف قاشق چای خوری کلسیم کلرید بیفزایید.

۴- محتویات هر بشر را به مدت ۳۰ ثانیه و با سرعتی برابر به هم بزنید. ارتفاع کف ایجاد شده را اندازه‌گیری و در جدول زیر یادداشت کنید. سپس به پرسش‌ها پاسخ دهید.

شماره بشر	۱	۲	۳
ارتفاع کف ایجاد شده (cm)			

آ) از این داده‌ها چه نتیجه‌ای می‌گیرید؟

ب) با توجه به معادله‌های شیمیایی زیر، توضیح دهید چرا ارتفاع کف در ظرف شماره ۲ و ۳ کمتر از ظرف شماره ۱ است؟



پ) آیا قدرت پاک‌کنندگی صابون در آب دریا و آب چشمه یکسان است؟ چرا؟

آب دریا و آب‌های مناطق کویری که شور هستند، مقادیر چشمگیری از یون‌های کلسیم و منیزیم دارند. چنین آب‌هایی به آب سخت<sup>۱</sup> معروف‌اند. صابون در این آب‌ها به خوبی کف نمی‌کند و قدرت پاک‌کنندگی آن کاهش می‌یابد، زیرا صابون با یون‌های موجود در آب سخت رسوب تشکیل می‌دهد. لکه‌های سفیدی که پس از شستن لباس با صابون روی آنها برجای می‌ماند، نشانه‌ای از تشکیل چنین رسوب‌هایی است.

## خود را بیازمایید

دانش‌آموزی برای مقایسه قدرت پاک‌کنندگی دو نوع صابون، کاوشی انجام داد. او از دو نوع صابون برای پاک کردن لکه چربی یکسان از روی دو نوع پارچه استفاده و نتایج آزمایش خود را در جدول زیر یادداشت کرد. با توجه به جدول به پرسش‌ها پاسخ دهید.

نوع صابون	نوع پارچه	دما (°C)	درصد لکه باقی مانده
صابون بدون آنزیم	نخی	۳۰	۲۵
صابون بدون آنزیم	نخی	۴۰	۱۵
صابون آنزیم‌دار	نخی	۳۰	۱۰
صابون آنزیم‌دار	نخی	۴۰	۰
صابون آنزیم‌دار	پلی‌استر	۴۰	۱۵

۱- Hard Water

## آیا می‌دانید

نبود صابون، کمبود آن یا مصرف نادرست آن سبب ایجاد بیماری و افزایش مرگ‌ومیر در جهان می‌شود. بر اساس آمار سازمان بهداشت جهانی برآورد می‌شود که سالانه ۱/۵ میلیون کودک در سراسر دنیا به دلیل کمبود بهداشت می‌میرند. به همین دلیل ۱۵ اکتبر را **روز جهانی شستن دست‌ها** نامیده‌اند تا مردم فراموش نکنند همیشه در شرایط بحرانی و حوادث غیرمترقبه مانند زلزله، سیل و... باید از صابون و شوینده‌ها برای شستن دست‌ها استفاده کنند.

آ) دما چه اثری بر قدرت پاک‌کنندگی صابون دارد؟

ب) قدرت پاک‌کنندگی صابون با افزودن آنزیم چه تغییری می‌کند؟

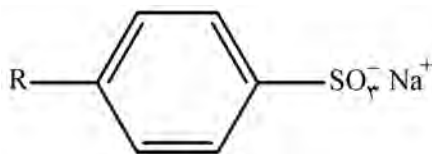
پ) آیا میزان چسبندگی لکه‌های چربی روی پارچه‌های گوناگون یکسان است؟ از کدام

داده جدول چنین نتیجه‌ای به دست می‌آید؟

نقش پاک‌کنندگی صابون سبب شد تا کاربرد آن از پاکیزگی و تأمین بهداشت فردی و محیط خانه به مراکز صنعتی، بیمارستانی و اداری نیز گسترش یابد. این روند سبب رشد چشمگیر صابون‌سازی شد تا جایی که امروزه به یک صنعت بزرگ در جهان تبدیل شده است. صنعتی که نقش چشمگیری در کاهش بیماری‌های گوناگون داشته و سطح بهداشت را در جهان افزایش داده است. از سوی دیگر با افزایش جمعیت جهان، مصرف صابون نیز افزایش یافت. بدیهی است که برای تولید صابون در مقیاس انبوه به مقدار بسیار زیادی چربی نیاز بود و این خود چالشی بزرگ بود! از این رو تأمین صابون مورد نیاز جهان به روش‌های سنتی تقریباً ناممکن شد. همچنین صابون در همه شرایط به خوبی عمل نمی‌کرد زیرا استفاده از آن در محیط‌های گوناگون مانند سفرهای دریایی و صنایع وابسته به آب شور، پاسخگوی نیاز انسان نبود. نگرانی‌هایی از این دست، شیمی‌دان‌ها را برای شناسایی و تولید دیگر پاک‌کننده‌ها ترغیب کرد.

## در جست‌وجوی پاک‌کننده‌های جدید

افزایش تقاضای جهانی برای صابون و کاربردهای آن از یک سو و کاهش عرضه این فراورده از سوی دیگر سبب شد تا شیمی‌دان‌ها وارد عمل شوند. آنها در جست‌وجوی موادی بودند که قدرت پاک‌کنندگی زیادی داشته باشند و بتوان آنها را به میزان انبوه و با قیمت مناسب تولید کرد. با توجه به رابطه بین ساختار و رفتار یک ماده، شیمی‌دان‌ها به دنبال تولید موادی بودند که ساختار آنها شبیه صابون باشد. آنها توانستند از بنزن و دیگر مواد اولیه در صنایع پتروشیمی، مواد پاک‌کننده‌ای با فرمول همگانی زیر تولید کنند. موادی که به پاک‌کننده‌های غیرصابونی<sup>۱</sup> مشهورند.



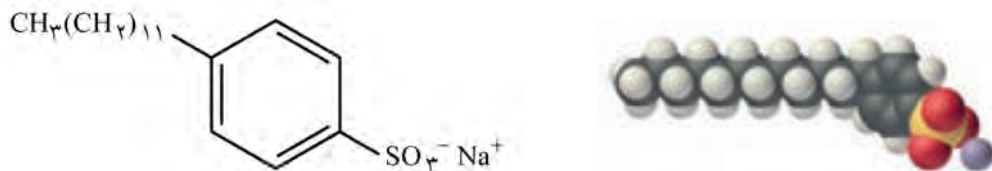
● حفظ کردن نام و ساختار شوینده‌ها و پاک‌کننده‌ها جزو هدف‌های آموزشی این کتاب نیست. بنابراین طرح هرگونه پرسش از این موارد در آزمون‌های نهایی و کنکور ممنوع است.

## خود را بیازمایید

## آیا می دانید

دانه برخی درختچه‌ها و درختان کوچک جنگلی به دانه‌های صابونی معروف‌اند. این دانه‌ها را می‌چینند و بعد از درآوردن هسته، در برابر آفتاب خشک می‌کنند. این میوه‌های خشک، صابون طبیعی به نام ساپونین دارند که بر اثر مخلوط شدن با آب کف ایجاد می‌کند و پاک‌کننده چربی‌ها و آلودگی‌ها هستند.

شکل زیر فرمول ساختاری و مدل فضا پرکن را برای نوعی پاک‌کننده غیرصابونی نشان می‌دهد. با توجه به آن به پرسش‌ها پاسخ دهید.



(آ) بخش‌های آب دوست و آب‌گریز آن را مشخص کنید.

(ب) شباهت‌ها و تفاوت‌های این ماده را با صابون بنویسید.

(پ) توضیح دهید که چگونه این ماده لکه‌های چربی را هنگام شست‌وشو با آب از بین می‌برد.

اینک می‌پذیرید که  $\text{RCOONa}$  همانند  $\text{RC}_6\text{H}_4\text{SO}_3^-\text{Na}^+$  یک پاک‌کننده است با این تفاوت که از مواد پتروشیمیایی طی واکنش‌های پیچیده در صنعت تولید می‌شود. این مواد قدرت پاک‌کنندگی بیشتری نسبت به صابون دارند و در آب‌های سخت نیز خاصیت پاک‌کنندگی خود را حفظ می‌کنند زیرا با یون‌های موجود در این آب‌ها رسوب نمی‌دهند.

## پیوند با صنعت

در جنوب ایران نیز گیاهی به نام اشنان (اشلونگ) می‌روید که در گذشته نه چندان دور، مغز ریشه آن را خشک کرده و به‌عنوان شوینده استفاده می‌کردند.

صابون طبیعی معروف به صابون مراغه با بیش از ۱۵۰ سال قدمت، معروف‌ترین صابون سنتی ایران است. برای تهیه این صابون، پیه گوسفند و سود سوزآور را در دیگ‌های بزرگ با آب برای چندین ساعت می‌جوشانند و پس از قالب‌گیری آنها را در آفتاب خشک می‌کنند (شکل ۴).



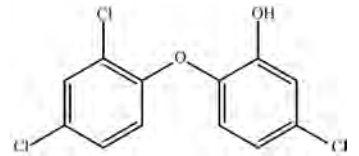
شکل ۴- سالانه حدود ۲۰۰ تن صابون در شهر مراغه تولید می‌شود و به‌دست مشتریان می‌رسد. البته توجه داشته باشید صابون‌های سنتی در شهرهای دیگری مانند آشتیان، رودبار و ... نیز تولید می‌شوند.

● از نوعی صابون سنتی در تنور نان سنگک برای چرب کردن سطح سنگ‌ها استفاده می‌شود.

این صابون افزودنی شیمیایی ندارد و به دلیل خاصیت بازی مناسب برای موهای چرب استفاده می‌شود. امروزه صابون‌ها و شوینده‌های دیگری تولید می‌شوند که افزون بر خاصیت پاک‌کنندگی، خواص ویژه‌ای نیز دارند. برای نمونه صابون گوگردار، برای از بین بردن جوش

## آیا می دانید

ترکیب‌های آروماتیک کلردار مانند تریکلوسان خاصیت گندزدایی و میکروب‌کشی دارند. لازم به یادآوری است که این ماده شیمیایی به تازگی به دلیل عوارض جانبی برای انسان از شوینده‌ها حذف شده است.



## آیا می دانید

ورود نمک‌های فسفات ناشی از مصرف شوینده‌ها سبب شدت فاجعه مرگبار دریاچه اری (Erie lake) در دهه ۱۹۶۰ میلادی رخ دهد و تعداد زیادی از آبزیان این دریاچه از بین بروند.

صورت و همچنین قارچ‌های پوستی استفاده می‌شود. همچنین به منظور افزایش خاصیت ضدعفونی‌کنندگی و میکروب‌کشی صابون‌ها به آنها ماده شیمیایی کلردار اضافه می‌کنند. از سوی دیگر برای افزایش قدرت پاک‌کنندگی مواد شوینده، به آنها نمک‌های فسفات می‌افزایند، زیرا این نمک‌ها با یون‌های کلسیم و منیزیم موجود در آب‌های سخت واکنش می‌دهند و از تشکیل رسوب و ایجاد لکه جلوگیری می‌کنند. باید توجه داشت که هر چه شوینده‌ای مواد شیمیایی بیشتری داشته باشد، احتمال ایجاد عوارض جانبی آن بیشتر خواهد بود. به همین دلیل مصرف زیاد شوینده‌ها و تنفس بخار آنها، عوارض پوستی و بیماری‌های تنفسی ایجاد می‌کند. بنابراین برای حفظ سلامت بدن و محیط زیست، استفاده از شوینده‌های ملایم، طبیعی و مناسب توصیه می‌شود.

## پاک‌کننده‌های خورنده

تاکنون با پاک‌کننده‌هایی آشنا شدید که بر اساس برهم‌کنش میان ذره‌ها عمل می‌کنند. اما پاک‌کننده‌های دیگری هم وجود دارند که افزون بر این برهم‌کنش‌ها، با آلاینده‌ها واکنش می‌دهند. برای نمونه رسوب تشکیل شده بر روی دیواره کتری، لوله‌ها، آب‌راه‌ها و دیگ‌های بخار آن چنان به این سطح‌ها می‌چسبند که با صابون و پاک‌کننده‌های غیرصابونی زدوده نمی‌شوند. برای زدودن این رسوب‌ها به پاک‌کننده‌هایی نیاز است که بتوانند با آنها واکنش شیمیایی بدهند و آنها را به فرآورده‌هایی تبدیل کنند که با آب شسته شوند. موادی مانند هیدروکلریک اسید (جوهر نمک)، سدیم هیدروکسید و سفیدکننده‌ها از جمله این پاک‌کننده‌ها هستند. این پاک‌کننده‌ها از نظر شیمیایی فعال هستند و خاصیت خوردگی نیز دارند. به همین دلیل نباید با پوست تماس داشته باشند.

## با هم بیندیشیم

۱- با توجه به تغییر رنگ کاغذ pH، در هر یک از شکل‌های زیر مشخص کنید که هر پاک‌کننده چه خاصیتی دارد؟



سرکه سفید



صابون



محلول سود



محلول جوهر نمک

۲- نوعی پاک کننده که به شکل پودر عرضه می شود شامل مخلوط سدیم هیدروکسید و پودر آلومینیم است. این پاک کننده برای باز کردن مجاری مسدود شده در برخی وسایل و دستگاه های صنعتی استفاده می شود. با توجه به الگوی زیر به پرسش ها پاسخ دهید.

مخلوط آلومینیم و سدیم هیدروکسید

+

آب



گاز هیدروژن

+

فراورده های دیگر

(آ) توضیح دهید چرا از این پودر برای باز کردن لوله ها و مسیرهایی استفاده می شود که بر اثر ایجاد رسوب و تجمع چربی ها بسته شده اند؟  
(ب) از آنجا که واکنش این مخلوط با آب گرماده است، توضیح دهید این ویژگی چه اثری بر قدرت پاک کنندگی آن دارد؟  
(پ) تولید گاز چگونه قدرت پاک کنندگی این مخلوط را افزایش می دهد؟ توضیح دهید.

تا اینجا با برخی ویژگی ها و رفتارهای مواد شوینده و ساختار برخی از آنها آشنا شدید. اکنون می پرسید که از نظر شیمیایی پاک کننده ها به کدام دسته از مواد تعلق دارند؟ چه واکنش هایی انجام می دهند؟ آیا خاصیت اسیدی و بازی همه آنها یکسان است؟ چرا این مواد سبب تغییر pH محیط می شوند؟ pH یک سامانه نشان دهنده چیست؟ این کمیت چگونه اندازه گیری و محاسبه می شود؟ pH شوینده ها چه اثری روی بدن و محیط زیست دارد؟ برای یافتن پاسخ پرسش هایی از این دست، آشنایی و درک مفاهیمی مانند اسید، باز و قدرت اسیدی و بازی ضروری است.

## اسیدها و بازها

هر روز در بخش های گوناگون زندگی افزون بر شوینده ها و پاک کننده ها، مقادیر متفاوتی از مواد شیمیایی گوناگون مصرف می شود که در اغلب آنها اسیدها و بازها نقش مهمی دارند. عملکرد بدن ما نیز به میزان مواد اسیدی و بازی موجود در آن وابسته است. اسیدهای خوراکی مزه ترش و بازها مزه تلخ دارند.

اسیدها با اغلب فلزها واکنش می دهند و در تماس با پوست سوزش ایجاد می کنند. برای نمونه دلیل سوزش معده که درد شدیدی در ناحیه سینه ایجاد می کند، برگشت مقداری از محتویات اسیدی معده به لوله مری است. در حالی که بازها در سطح پوست همانند صابون، احساس لیزی ایجاد می کنند اما به آن نیز آسیب می رسانند (شکل ۵).



● یاخته های دیواره معده با ورود مواد غذایی به آن هیدروکلریک اسید ترشح می کنند. این اسید افزون بر فعال کردن آنزیم ها برای تجزیه مواد غذایی، جانداران ذره بینی موجود در غذا را نیز از بین می برد.



## آیا می دانید

آرنیوس معتقد بود که اسیدها و بازها هنگام حل شدن در آب، به طور جزئی یا کامل شکسته می‌شوند و ذره‌هایی باردار به نام یون را پدید می‌آورند. این ایده آرنیوس، در زمان خود یک ایده انقلابی بود. در آن زمان اغلب شیمی‌دان‌ها بر این باور بودند که مولکول‌ها نمی‌توانند به یون‌های مثبت و منفی شکسته شوند. به همین دلیل با دادن کرسی استادی به وی مخالفت کردند. اما شیمی‌دان‌های جوان در پژوهش‌های خود به نتایجی دست یافتند که با نظریه آرنیوس همخوانی داشت. این روند ادامه یافت تا اینکه در سال ۱۹۰۳ میلادی، جایزه نوبل شیمی به وی اهدا شد.



سوانت آرنیوس ۱۸۵۹-۱۹۲۷ شیمی‌دان سوئدی، برنده جایزه نوبل شیمی در سال ۱۹۰۳.



تنظیم میزان اسیدی بودن شوینده‌ها ضروری است.



اغلب داروها ترکیب‌هایی با خاصیت اسیدی یا بازی هستند.



برای کاهش میزان اسیدی بودن خاک به آن آهک می‌افزایند.



ورود فاضلاب‌های صنعتی به محیط زیست سبب تغییر pH می‌شود.



اغلب میوه‌ها دارای اسیدند و pH آنها کمتر از ۷ است.



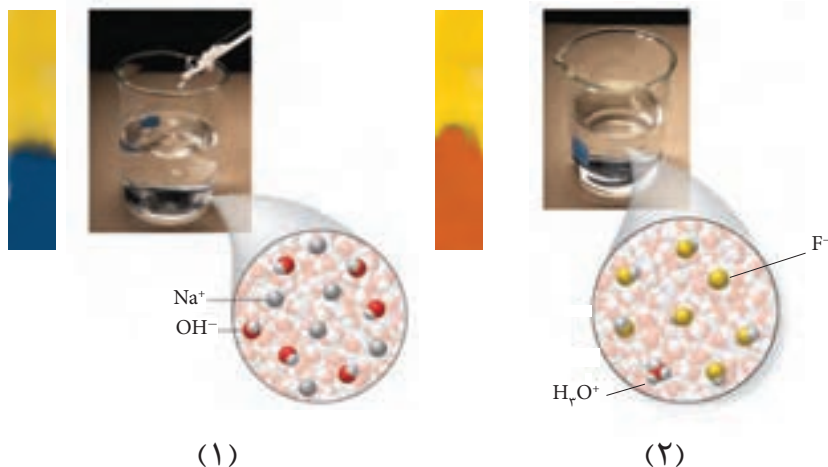
زندگی بسیاری از آبزیان به pH آب وابسته است.

### شکل ۵- نمونه‌هایی از مواد اسیدی و بازی در زندگی

شواهد بسیاری در تاریخ علم وجود دارد که نشان می‌دهند پیش از آنکه ساختار اسیدها و بازها شناخته شود، شیمی‌دان‌ها افزون بر ویژگی‌های اسیدها و بازها با برخی واکنش‌های آنها نیز آشنا بودند. اما توجیه رفتار اسیدها و بازها به یک مبنای علمی نیاز داشت. سوانت آرنیوس نخستین کسی بود که اسیدها و بازها را بر یک مبنای علمی توصیف کرد. او بر روی رسانایی الکتریکی محلول‌های آبی کار می‌کرد. یافته‌های تجربی او نشان داد که محلول اسیدها و بازها رسانای جریان الکتریکی هستند، هر چند میزان رسانایی آنها با یکدیگر یکسان نیست.

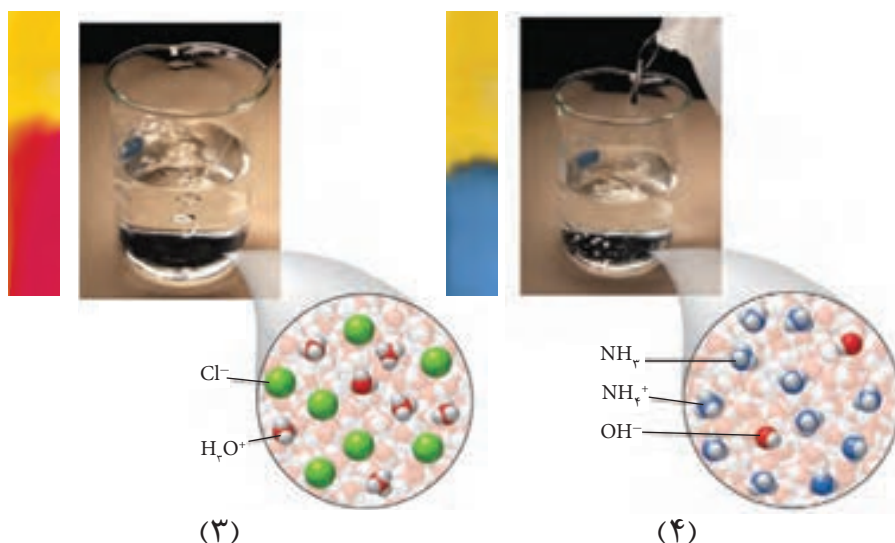
## با هم بیندیشیم

۱- با حل شدن اسیدها یا بازها در آب، مقدار یون‌های موجود در آب افزایش می‌یابد. شکل‌های زیر نمای ذره‌ای از محلول چند ماده در آب را نشان می‌دهند. با توجه به شکل و تغییر رنگ کاغذ pH به پرسش‌ها پاسخ دهید.





● یون  $H^+(aq)$  در آب به شکل  $H_3O^+(aq)$  یافت می‌شود و به یون هیدرونیوم معروف است. برای آسانی در نوشتن در منابع علمی به جای  $H_3O^+(aq)$  از نماد  $H^+(aq)$  برای نشان دادن یون هیدرونیوم استفاده می‌شود.



آ) کدام محلول‌ها خاصیت اسیدی و کدام‌ها خاصیت بازی دارند؟  
 ب) خاصیت اسیدی محلول‌های ۲ و ۳ را به کدام یون نسبت می‌دهید؟ چرا؟  
 پ) خاصیت بازی محلول‌های ۱ و ۴ را به کدام یون نسبت می‌دهید؟ چرا؟  
 ۲- یافته‌هایی از این دست به آرنیوس کمک کرد تا مدلی برای اسید و باز ارائه کند. اگر اساس مدل آرنیوس افزایش غلظت یون‌های  $H^+(aq)$  یا  $OH^-(aq)$  باشد، اسید و باز آرنیوس را تعریف کنید.

۳- در هر مورد با خط زدن واژه نادرست، عبارت داده شده را کامل کنید.

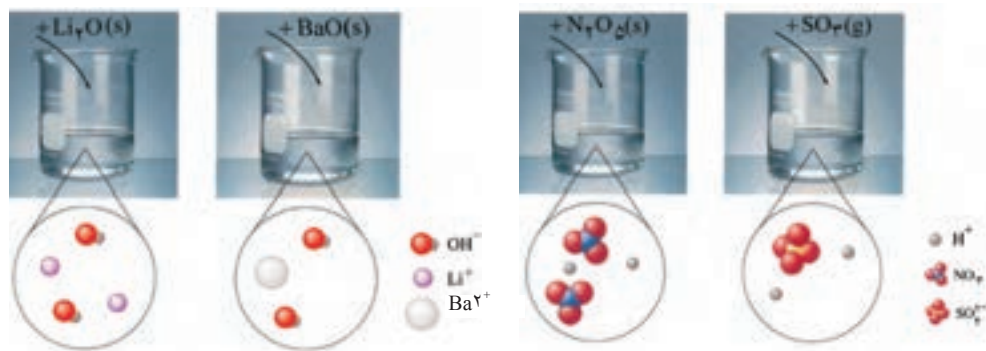
آ) گاز هیدروژن کلرید یک  $\frac{\text{اسید}}{\text{باز}}$  آرنیوس به شمار می‌رود، زیرا در آب سبب افزایش غلظت یون  $\frac{\text{هیدرونیوم}}{\text{هیدروکسید}}$  می‌شود.

ب) سدیم هیدروکسید جامد یک  $\frac{\text{اسید}}{\text{باز}}$  آرنیوس به شمار می‌رود، زیرا در آب سبب افزایش غلظت یون  $\frac{\text{هیدرونیوم}}{\text{هیدروکسید}}$  می‌شود.

مواد و ترکیب‌هایی که با حل شدن در آب، غلظت یون‌های هیدرونیوم و هیدروکسید را افزایش می‌دهند به ترتیب اسید و باز آرنیوس هستند. در واقع رفتار اسید و باز آرنیوس را می‌توان براساس غلظت یون‌های  $H^+(aq)$  و  $OH^-(aq)$  توصیف کرد. بدیهی است هر چه  $[H^+]$  در محلولی بیشتر باشد، آن محلول اسیدی‌تر و هر چه  $[OH^-]$  در محلولی بیشتر باشد، آن محلول بازی‌تر است. با این توصیف اگر در یک سامانه غلظت یون‌های هیدرونیوم و هیدروکسید با هم برابر باشد، آن سامانه حالت خنثی دارد.

## خود را بیازمایید

آ) برخی اکسیدها با آب واکنش می دهند. با توجه به شکل زیر مشخص کنید اسیدی که وارد آب می شود، اسید آرنیوس است یا باز آرنیوس؟ چرا؟



ب) معادله شیمیایی واکنش هر یک از این اکسیدها را با آب بنویسید و موازنه کنید.  
پ) جدول زیر را کامل کنید.

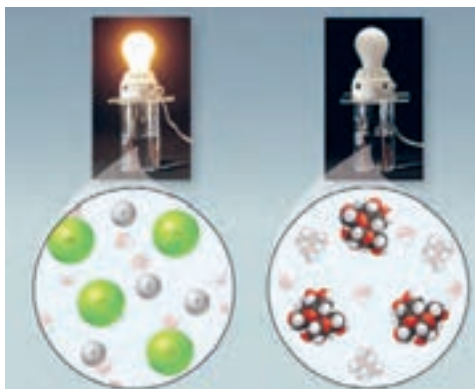
رنگ کاغذ PH در محلول	نوع اکسید		فرمول شیمیایی	نام ترکیب شیمیایی
	بازی	اسیدی		
				گوگرد تری اکسید
			CO <sub>2</sub>	
				کلسیم اکسید
			Na <sub>2</sub> O	

اکنون با اینکه می توان اسید و باز را بر اساس مدل آرنیوس تشخیص داد اما نمی توانید درباره میزان اسیدی یا بازی بودن یک محلول اظهار نظر کنید. برای نمونه آیا می دانید در دمای اتاق از بین دو محلول یک مولار استیک اسید و هیدروکلریک اسید، کدام یک اسیدی تر است؟ برای یافتن پاسخ این پرسش باید مشخص کرد که غلظت یون هیدرونیوم در کدام محلول بیشتر است.

## رسانایی الکتریکی محلول ها و قدرت اسیدی

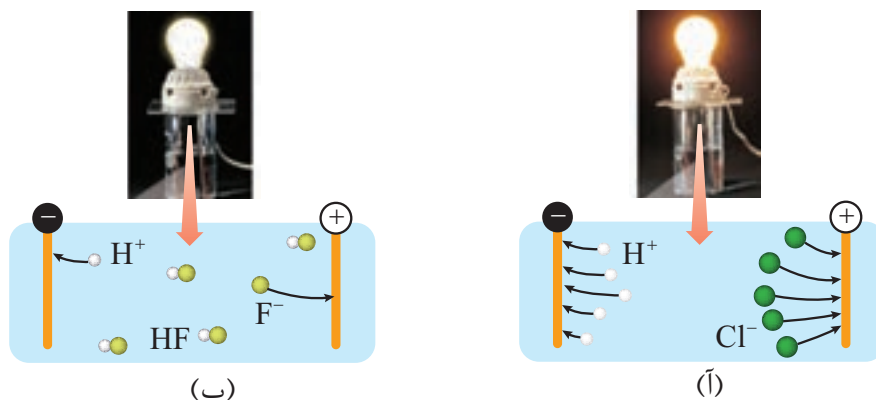
خوراکی ها، شوینده ها، داروها، مواد آرایشی و بهداشتی شامل مقادیر متفاوتی از یون هیدرونیوم هستند. غلظت این یون بر روی ماندگاری این مواد و در نتیجه سلامتی تأثیر شایانی دارد. برای نمونه شیر سالم با افزایش غلظت یون هیدرونیوم، ترش شده به طوری که دیگر قابل نوشیدن نیست. این نمونه نشان می دهد که در فرایند تولید مواد گوناگون اغلب تعیین و کنترل غلظت یون هیدرونیوم نقش مهمی دارد.

در شیمی ۱ آموختید که در محلول‌های الکترولیت به دلیل وجود یون‌ها و حرکت آنها، بارهای الکتریکی جابه‌جا می‌شوند. به طوری که اگر این محلول‌ها در یک مدار الکتریکی قرار گیرند با حرکت یون‌ها به سوی قطب‌های ناهمنام، جریان الکتریکی برقرار می‌شود (شکل ۶).



شکل ۶- مقایسه رسانایی الکتریکی محلول‌های آبی سدیم کلرید و شکر

به نظر شما اگر محلول الکترولیت‌های گوناگون در چنین مداری قرار گیرند آیا روشنایی یکسانی در لامپ ایجاد می‌کنند؟ پاسخ منفی به این پرسش نشان می‌دهد که رسانایی الکتریکی محلول‌های الکترولیت یکسان نیست. برای نمونه، شکل ۷ رسانایی الکتریکی محلول ۱٪ مولار هیدروکلریک اسید را در مقایسه با محلول ۱٪ مولار هیدروفلوئوریک اسید در دمای اتاق نشان می‌دهد.



شکل ۷- رسانایی الکتریکی دو محلول الکترولیت (آ) HCl(aq) (ب) HF(aq)

کمتر بودن رسانایی الکتریکی هیدروفلوئوریک اسید نشان می‌دهد که در شرایط یکسان شمار یون‌های موجود در این محلول کمتر از محلول هیدروکلریک اسید است. به دیگر سخن غلظت آنیون‌ها و کاتیون‌ها (یون‌های هیدرونیوم) در HCl(aq) بیشتر است. با این توصیف شیمی دان‌ها به کمک مدل آرنیوس، هیدروکلریک اسید را یک **اسید قوی**<sup>۱</sup> و هیدروفلوئوریک اسید را یک **اسید ضعیف**<sup>۲</sup> می‌نامند. چرا با وجود یکسان بودن غلظت دو محلول، رسانایی الکتریکی و قدرت اسیدی آنها متفاوت است؟

۱- Strong Acid

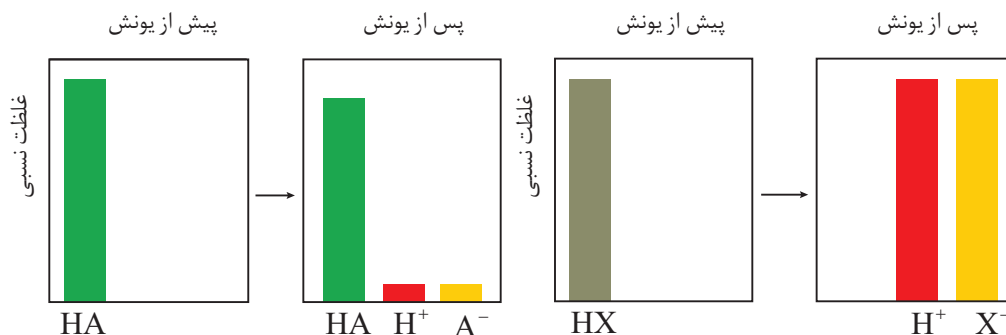
۲- Weak Acid

## با هم بیندیشیم

به اسیدی که هر مولکول آن در آب تنها می‌تواند یک یون هیدرونیوم تولید کند، اسید تک پروتون دار<sup>۱</sup> می‌گویند. با این توصیف:

- ۱- معادله یونش را برای اسیدهای تک پروتون دار  $\text{HCl(aq)}$  و  $\text{HF(aq)}$  در آب بنویسید.
- ۲- نمودارهای زیر غلظت نسبی گونه‌های موجود در محلول این دو اسید را پیش و پس از یونش نشان می‌دهند.

● به فرایندی که در آن یک ترکیب مولکولی در آب به یون‌های مثبت و منفی تبدیل می‌شود، یونش می‌گویند.



- آ) کدام اسید به طور کامل و کدام یک به طور جزئی یونیده شده است؟  
 ب) کدام نمودار را می‌توان به هیدروکلریک اسید و کدام نمودار را می‌توان به هیدروفلوئوریک اسید نسبت داد؟ چرا؟

- ۳- شیمی‌دان‌ها برای بیان میزان یونش اسیدها، از کمیتی به نام **درجه یونش** ( $\alpha$ ) استفاده می‌کنند که به صورت زیر بیان می‌شود:

● در رابطه درجه یونش می‌توان به جای شمار مولکول‌ها، غلظت مولی گونه‌ها را قرار داد.

$$\text{درجه یونش} = \frac{\text{شمار مولکول‌های یونیده شده}}{\text{شمار کل مولکول‌های حل شده}}$$

- آ) پیش‌بینی کنید درجه یونش برای  $\text{HCl}$  در محلول هیدروکلریک اسید چند است؟ چرا؟  
 ب) اگر در محلول هیدروفلوئوریک اسید از هزار مولکول حل شده در دمای اتاق تنها ۲۴ مولکول یونیده شود، درجه یونش آن را حساب کنید.

● در منابع علمی معتبر گاهی به جای درجه یونش از درصد یونش ( $\alpha \times 100$ ) استفاده می‌کنند.

اینک می‌توان اسیدها را بر مبنای میزان یونشی که در آب دارند در دو دسته قوی و ضعیف جای داد. اسیدهایی قوی هستند که می‌توان یونش آنها را در آب کامل در نظر گرفت ( $\alpha \approx 1$ ). اسیدهای ضعیف در آب به میزان جزئی یونیده می‌شوند و شمار یون‌ها در محلول آنها کم است ( $\alpha < 1$ ).

● کربوکسیلیک اسیدها از جمله اسیدهای ضعیف هستند که تنها هیدروژن گروه کربوکسیل آنها می‌تواند به صورت یون هیدرونیوم وارد محلول شود.



● اسیدهای موجود در سرکه سیب، انگور، ریواس و مرکبات مانند پرتقال و لیمو از جمله اسیدهای خوراکی و ضعیف هستند.



۱- نیتریک اسید، یک اسید قوی است. در محلول ۲٪ مولار این اسید، غلظت یون‌های هیدرونیوم و نترات را با دلیل پیش‌بینی کنید.

۲- اگر در محلول ۱٪ مولار استیک اسید ( $\text{CH}_3\text{COOH}$ )، غلظت یون هیدرونیوم برابر با  $10^{-3} \times 1/35$  molL<sup>-1</sup> باشد:

آ) معادله یونش استیک اسید را بنویسید.

ب) درصد یونش آن را حساب کنید.

در زندگی روزانه با انواع اسیدها سر و کار داریم که برخی قوی و اغلب آنها ضعیف هستند. اسیدهای قوی را می‌توان محلولی شامل یون‌های آب پوشیده دانست، به طوری که در آنها تقریباً مولکول‌های یونیده نشده یافت نمی‌شود. این در حالی است که در محلول اسیدهای ضعیف افزون بر اندک یون‌های آب پوشیده، مولکول‌های اسید نیز یافت می‌شوند. برای نمونه، در محلول سرکه شمار ناچیزی از یون‌های آب پوشیده هم‌زمان با شمار زیادی از مولکول‌های استیک اسید یونیده نشده حضور دارند. یافته‌های تجربی نشان می‌دهند که در شرایط معین، غلظت همه گونه‌های موجود در محلول این اسید، همانند دیگر اسیدهای ضعیف ثابت است. آیا می‌دانید حضور هم‌زمان یون‌ها و مولکول‌های یونیده نشده با غلظت ثابت در محلول چنین اسیدهایی بیانگر چیست؟

### ثابت تعادل و قدرت اسیدی

در شیمی ۱ آموختید که حضور هم‌زمان واکنش‌دهنده‌ها و فراورده‌ها در مخلوط واکنش را می‌توان نشانه‌ای از برگشت‌پذیر بودن واکنش‌ها دانست. واکنش‌هایی که در آنها همه واکنش‌دهنده‌ها به فراورده‌ها تبدیل نمی‌شوند، بلکه در شرایط معین مقدار آنها در سامانه ثابت خواهد ماند. گویی این واکنش‌ها تا حدی پیش می‌روند و پس از آن مقدار فراورده‌ها دیگر تغییر نخواهد کرد.

## کاوش کنید ۲

- درباره «فرایند برگشت پذیر تبدیل A به B تا رسیدن به تعادل» کاوش کنید.
- ابزار، وسایل و مواد مورد نیاز: دو ظرف پلاستیکی با حجم حدود ۲ لیتر، دو بشر ۱۰۰ و ۵۰ میلی لیتری، دو استوانه مدرج ۱۰۰ میلی لیتری و حدود یک لیتر آب حاوی رنگ خوراکی.
- ۱- دو ظرف پلاستیکی دو لیتری را شماره گذاری کنید.
  - ۲- درون ظرف شماره (۱) حدود یک لیتر محلول رنگی بریزید.



- ۳- با بشر ۱۰۰ میلی لیتری، از محتویات ظرف (۱) بردارید و به ظرف (۲) بریزید، هم زمان با بشر ۵۰ میلی لیتری از محتویات ظرف (۲) بردارید (ظرف خالی) به ظرف (۱) بریزید. محتویات کدام ظرف را می توان به عنوان فراورده در نظر گرفت؟ چرا؟



- ۴- جابه جایی محتویات دو ظرف را با همین روند ادامه دهید اما پیش از اینکه هر بار به ظرف منتقل کنید نخست آنها را در دو استوانه مدرج بریزید و پس از مقایسه حجم آنها، محلول ها را با استوانه مدرج جابه جا کنید (دلیل این عمل را توضیح دهید).





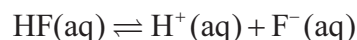
۵- سرانجام به مرحله‌ای خواهید رسید که حجم محلول‌های جابه‌جا شده میان دو ظرف برابر و مقدار محتویات هر ظرف ثابت خواهد ماند اما مقدار آنها با هم برابر نیست.



۶- درباره درستی نتیجه زیر گفت و گو کنید.

«در یک واکنش برگشت پذیر که هم‌زمان واکنش‌های رفت و برگشت به‌طور پیوسته انجام می‌شوند، سرانجام مقدار واکنش دهنده‌ها و فراورده‌ها ثابت می‌ماند.»

واکنش‌های برگشت‌پذیر، آنهایی هستند که می‌توانند در هر دو جهت انجام شوند. این نوع واکنش‌ها در شرایط مناسب هم‌زمان در هر دو جهت رفت و برگشت انجام می‌شوند تا اینکه سرانجام لحظه‌ای فرا می‌رسد که غلظت واکنش دهنده‌ها و فراورده‌ها ثابت می‌ماند. این ویژگی تنها هنگامی رخ می‌دهد که سرعت واکنش رفت با برگشت برابر شود زیرا در این شرایط، هر مقداری از فراورده‌ها که در واحد زمان تولید می‌شود، هم‌زمان به همان مقدار از آنها مصرف می‌شود. برای واکنش دهنده‌ها نیز چنین است. در شیمی به چنین سامانه‌هایی، **سامانه تعادلی** می‌گویند. واکنش‌های رفت و برگشت در سامانه‌های تعادلی به‌طور پیوسته و با سرعت برابر انجام می‌شوند و به همین دلیل مقدار مواد شرکت کننده در سامانه ثابت می‌ماند. نمونه‌ای از سامانه‌های تعادلی، محلول اسیدهای ضعیف در آب است. در این محلول‌ها به دلیل یونش ناچیز اسیدهای ضعیف میان اندک یون‌های حاصل از یونش و مولکول‌های یونیده نشده تعادل برقرار می‌شود. برای نمونه در محلول هیدروفلوئوریک اسید تعادل زیر برقرار است.



برای این سامانه تعادلی نیز در دمای ثابت، غلظت تعادلی گونه‌های موجود در محلول ثابت می‌ماند زیرا سرعت تولید هر گونه با سرعت مصرف آن برابر است. این سامانه‌ها را می‌توان با کمیتی به نام **ثابت تعادل**<sup>۱</sup> توصیف کرد که در آن تنها غلظت تعادلی گونه‌های شرکت کننده در واکنش آورده می‌شود. مقدار این کمیت در دمای ثابت برای هر تعادل ثابت است.

● نماد  $\rightleftharpoons$  در واکنش‌های تعادلی به کار می‌رود.

<sup>۱</sup> - Equilibrium Constant

۱- جدول زیر غلظت تعادلی گونه‌های موجود در سه محلول از هیدروفلوئوریک اسید را در دمای  $25^{\circ}\text{C}$  نشان می‌دهد. با توجه به آن به پرسش‌ها پاسخ دهید.

$K = \frac{[\text{H}^+][\text{F}^-]}{[\text{HF}]}$	غلظت تعادلی گونه‌های شرکت‌کننده (مول بر لیتر)			شماره محلول
	$[\text{H}^+]$	$[\text{F}^-]$	$[\text{HF}]$	
.....	$1/75 \times 10^{-2}$	$1/75 \times 10^{-2}$	0/52	۱
.....	$1/31 \times 10^{-2}$	$1/31 \times 10^{-2}$	0/29	۲
.....	$2/43 \times 10^{-2}$	$2/43 \times 10^{-2}$	1/0	۳

آ) توضیح دهید چرا در هر سه محلول  $[\text{H}^+] = [\text{F}^-]$  است؟

ب) کسر داده شده در ستون آخر را عبارت ثابت تعادل می‌نامند و با  $K$  نمایش می‌دهند.

مقدار  $K$  را حساب کرده و جاهای خالی را پر کنید.

پ) توضیح دهید آیا نتیجه‌گیری زیر درست است؟

« $K$  برای یک واکنش تعادلی در دمای معین، مقداری ثابت است»

ت) آیا ثابت تعادل در دمای ثابت به مقدار آغازی واکنش‌دهنده‌ها بستگی دارد؟ توضیح دهید.

۲- اگر غلظت تعادلی یون هیدرونیوم در محلول استیک اسید در دمای معین برابر با

$6 \text{ mol L}^{-1} / 1000$  باشد:

آ) غلظت تعادلی یون استات ( $\text{CH}_3\text{COO}^-$ ) را تعیین کنید.

ب) اگر غلظت تعادلی استیک اسید در این محلول برابر با  $2 \text{ mol L}^{-1}$  باشد، ثابت تعادل را

در این دما حساب کنید.

آموختید که برای هر واکنش تعادلی، یک ثابت تعادل وجود دارد که ویژه همان واکنش بوده و فقط تابع دما است. ثابت تعادل برای اسیدها به ثابت یونش اسید<sup>۱</sup> معروف است. کمیتی که با  $K_a$  نشان داده می‌شود، ثابت یونش یک اسید، نسبت حاصل ضرب غلظت تعادلی یون‌های موجود در محلول را به غلظت تعادلی آن اسید نشان می‌دهد. به دیگر سخن، ثابت یونش بیانی از میزان پیشرفت فرایند یونش تا رسیدن به تعادل است، به طوری که هر چه ثابت یونش اسیدی در دمای معین بزرگ‌تر باشد، آن اسید بیشتر یونیده شده و غلظت یون‌های موجود در محلول آن بیشتر است. در واقع در دمای معین هر چه ثابت یونش اسیدی بزرگ‌تر باشد، آن اسید قوی‌تر است. جدول صفحه بعد ثابت یونش برخی اسیدها را در دمای اتاق نشان می‌دهد.

۱- Acid Ionization Constant

### جدول ۱- ثابت یونش برخی اسیدها در دمای اتاق

معادله یونش در آب	ثابت یونش	فرمول شیمیایی	نام اسید
$\text{HI(aq)} \rightarrow \text{H}^+(\text{aq}) + \text{I}^-(\text{aq})$	بسیار بزرگ	HI	هیدرویدیک اسید
$\text{HBr(aq)} \rightarrow \text{H}^+(\text{aq}) + \text{Br}^-(\text{aq})$	بسیار بزرگ	HBr	هیدروبرمیک اسید
$\text{HCl(aq)} \rightarrow \text{H}^+(\text{aq}) + \text{Cl}^-(\text{aq})$	بسیار بزرگ	HCl	هیدروکلریک اسید
$\text{H}_2\text{SO}_4(\text{aq}) \rightarrow \text{H}^+(\text{aq}) + \text{HSO}_4^-(\text{aq})$	بسیار بزرگ	$\text{H}_2\text{SO}_4$	سولفوریک اسید
$\text{HNO}_3(\text{aq}) \rightarrow \text{H}^+(\text{aq}) + \text{NO}_3^-(\text{aq})$	بزرگ	$\text{HNO}_3$	نیتریک اسید
$\text{HNO}_2(\text{aq}) \rightleftharpoons \text{H}^+(\text{aq}) + \text{NO}_2^-(\text{aq})$	$4/5 \times 10^{-4}$	$\text{HNO}_2$	نیترو اسید
$\text{HCOOH(aq)} \rightleftharpoons \text{H}^+(\text{aq}) + \text{HCOO}^-(\text{aq})$	$1/8 \times 10^{-4}$	HCOOH	فورمیک اسید
$\text{CH}_3\text{COOH(aq)} \rightleftharpoons \text{H}^+(\text{aq}) + \text{CH}_3\text{COO}^-(\text{aq})$	$1/8 \times 10^{-5}$	$\text{CH}_3\text{COOH}$	استیک اسید
$\text{HCN(aq)} \rightleftharpoons \text{H}^+(\text{aq}) + \text{CN}^-(\text{aq})$	$4/9 \times 10^{-10}$	HCN	هیدروسیانیک اسید

### خود را بیازمایید



(آ)

۱- شکل های روبه‌رو واکنش دو قطعه نوار منیزیم یکسان را با محلول دو اسید متفاوت در دما و غلظت یکسان نشان می‌دهند.

(آ) سرعت کدام واکنش بیشتر است؟ چرا؟

(ب) غلظت یون هیدرونیوم در محلول کدام اسید بیشتر است؟ چرا؟

(پ) اگر ثابت یونش یک اسید،  $K_{a1}$  و دیگری  $K_{a2}$  باشد، ثابت یونش این دو اسید را با یکدیگر

مقایسه کنید و پاسخ خود را توضیح دهید.




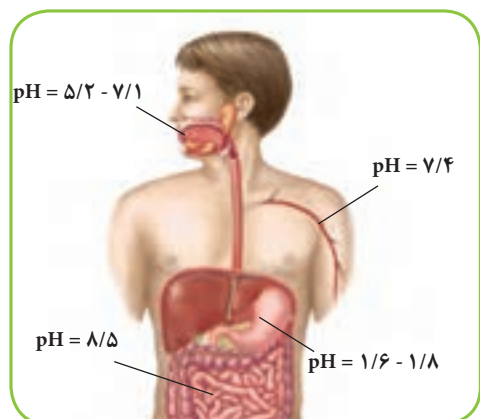
(ب)

۲- باران اسیدی شامل نیتریک اسید و سولفوریک اسید است در حالی که باران معمولی شامل کربنیک اسید است. با مراجعه به جدول توضیح دهید در کدام باران غلظت یون هیدرونیوم بیشتر است؟ چرا؟ ثابت یونش کربنیک اسید را  $4/5 \times 10^{-7}$  در نظر بگیرید.

### pH، مقیاسی برای تعیین میزان اسیدی بودن

با کاغذ pH و تغییر رنگ آن در محلول‌های اسیدی و بازی آشنا هستید. این تغییر رنگ

معیاری برای تشخیص اسیدی یا بازی بودن محلول‌ها است. افزون بر این، رنگی که این کاغذ درون یک محلول به خود می‌گیرد، نشان‌دهنده pH تقریبی آن محلول است. برخی سامانه‌ها در شکل ۸ نشان داده شده است. رنگ کاغذ pH در هر یک از آنها را پیش‌بینی کنید.



شکل ۸. pH محلول موجود در چند سامانه، محلول کدام سامانه اسیدی و کدام سامانه بازی است؟ آیا می‌دانید چه رابطه‌ای بین pH و غلظت یون هیدرونیوم موجود در محلول برقرار است؟ برای نمونه برای محلولی با  $pH = 3/7$  غلظت یون هیدرونیوم چقدر است؟ چگونه باید آن را حساب کرد؟

## پیوند با ریاضی

در درس ریاضی با لگاریتم آشنا شدید. تابعی که به صورت زیر بیان می‌شود:

$$\log_a x = b \leftrightarrow x = a^b$$

$$\log ab = \log a + \log b, \quad \log \frac{a}{b} = \log a - \log b, \quad \log a^n = n \log a$$

۱- (آ) با توجه به رابطه بالا، جاهای خالی زیر را پر کنید.

$$\log 2 = 0/30 \rightarrow 2 = 10^{0/30}$$

$$\log \dots = 0/48 \rightarrow \dots = 10^{0/48}$$

$$\log 7 = \dots \rightarrow \dots = 10^{0/85}$$

ب) با استفاده از لگاریتم‌های بالا، بنویسید در هر مورد زیر به جای ؟ چه عددی باید قرار گیرد؟

$$\log 21 = ?$$

$$\log 0/8 = ?$$

$$\log ? = 1/85$$

۲- شیمی دان‌ها کمیت pH را با تابع لگاریتم به صورت زیر بیان می‌کنند.

$$pH = -\log [H^+]$$

$$\log^x = \log x$$

## آیا می‌دانید

روش بسیار دقیقی برای اندازه‌گیری غلظت یون هیدرونیوم موجود در یک محلول وجود دارد که به کمک pH سنج‌های دیجیتال انجام می‌گیرد. این pH سنج‌ها با تقویت ولتاژ کوچکی که با وارد کردن الکترود دستگاه درون محلول ایجاد می‌شود و نمایش نتیجه روی صفحه نمایشگر، مقدار pH آن محلول را مشخص می‌کند.



با توجه به این رابطه، جدول زیر را کامل کنید.

[H <sup>+</sup> ]	pH	خاصیت محلول
$3 \times 10^{-9}$	.....	.....
.....	۴	.....
$1/8 \times 10^{-2}$	.....	.....

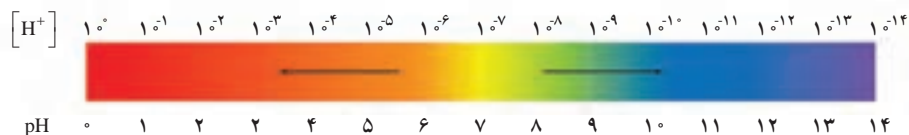
۳- دانش آموزی مطابق روند زیر غلظت یون هیدرونیوم را برای شیر ترش شده با  $pH = 2/7$  به درستی حساب کرده است. در این روند هر یک از جاهای خالی را با عدد مناسب پر کنید.

$$pH = -\log[H^+] \rightarrow [H^+] = 10^{-\dots} \xrightarrow{pH=2/7} [H^+] = 10^{-\dots} = 10^{\dots} \times 10^{-3} = \dots$$

۴- جدول زیر را کامل کنید.

[H <sup>+</sup> ]	pH	خاصیت محلول
.....	۲/۱۵	.....
$3/6 \times 10^{-4}$	.....	.....
.....	۱۱/۴	بازی
.....	۰	.....

اینک می‌پذیرید که برای پرهیز از بیان غلظت‌های کم و بسیار کم یون هیدرونیوم می‌توان از کمیت pH استفاده کرد زیرا اعدادی به مراتب ساده‌تر و قابل فهم‌تر ارائه می‌دهد. این کمیت برای محلول‌های آبی در دمای اتاق با اعدادی در گستره ۰ تا ۱۴ بیان می‌شود (نمودار ۲).



نمودار ۲- گستره تغییر pH برای محلول‌های آبی در دمای اتاق

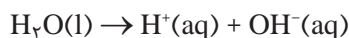
به نظر شما چرا گستره تغییر pH در محلول‌های آبی و در دمای اتاق از ۰ تا ۱۴ است؟ یافته‌های تجربی نشان می‌دهد که آب و همه محلول‌های آبی، محتوی یون‌های هیدرونیوم و هیدروکسید هستند. اما کاغذ pH در برخی محلول‌ها و آب خالص تغییر رنگ نمی‌دهد، رفتاری که تأیید می‌کند که غلظت یون‌های هیدرونیوم و هیدروکسید در این سامانه‌ها با یکدیگر برابر است ( $[H^+] = [OH^-]$ ). به همین دلیل چنین سامانه‌هایی خنثی هستند.



● شیر ترش شده به دلیل خاصیت اسیدی،  $pH < 7$  دارد.

## با هم ببیندیشیم

۱- آزمایش‌های دقیق نشان می‌دهند که آب خالص رسانایی الکتریکی ناچیزی دارد. این ویژگی بیانگر وجود مقدار بسیار کمی از یون‌های هیدرونیوم و هیدروکسید است. این یون‌ها بر اساس معادله زیر تولید می‌شوند:

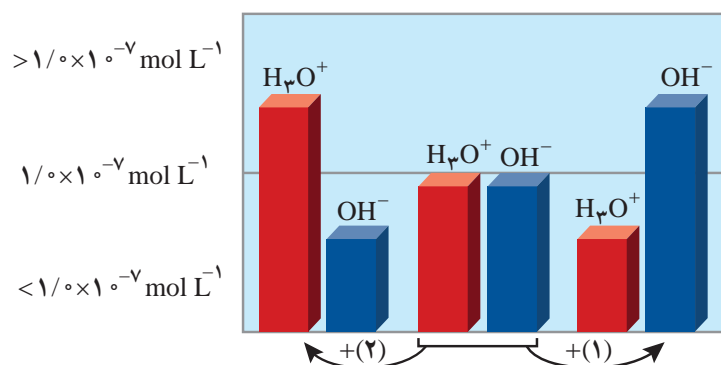


بر اساس اندازه‌گیری‌ها در دمای اتاق برای آب و محلول‌های آبی رابطه زیر برقرار است:

$$[\text{H}^+][\text{OH}^-] = 10^{-14}$$

آ) غلظت یون‌های هیدرونیوم و هیدروکسید را در دمای اتاق برای آب خالص حساب کنید.  
 ب) pH آب خالص و محلول‌های خنثی<sup>۱</sup> را در دمای ۲۵ °C حساب کنید.

۲- شکل زیر تغییر غلظت یون‌های هیدرونیوم و هیدروکسید را هنگام افزودن هر یک از مواد ۱ و ۲ به آب خالص نشان می‌دهد. با توجه به آن به پرسش‌ها پاسخ دهید.



آ) کدام یک از مواد افزوده شده اسید آرنیوس است؟ چرا؟

ب) غلظت یون‌های هیدرونیوم و هیدروکسید را در محلول بازی با یکدیگر مقایسه کنید.  
 پ) آیا می‌توان گفت در محلول‌های اسیدی، یون هیدروکسید وجود ندارد؟ توضیح دهید.

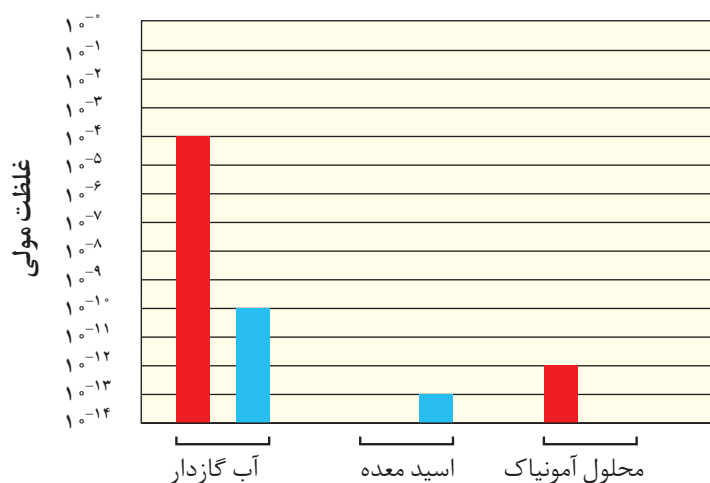
۳- گروهی از دانش‌آموزان برای نمایش تغییر غلظت یون‌های هیدرونیوم و هیدروکسید در محلول‌های آبی و دمای اتاق الگوی زیر را طراحی کرده‌اند. جاهای خالی را پر کنید و اساس کار آنها را توضیح دهید.

$$[\text{H}^+] = \dots \quad [\text{H}^+] = 10^{-7} \text{molL}^{-1} \quad [\text{H}^+] = 10^{-14} \text{molL}^{-1}$$

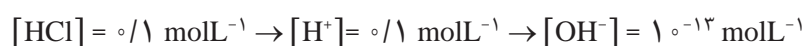




۴- در نمودار زیر، برای محلول آمونیاک، ستون نشان دهنده غلظت یون هیدروکسید و برای اسید معده، ستون نشان دهنده غلظت یون هیدرونیوم را رسم کنید.

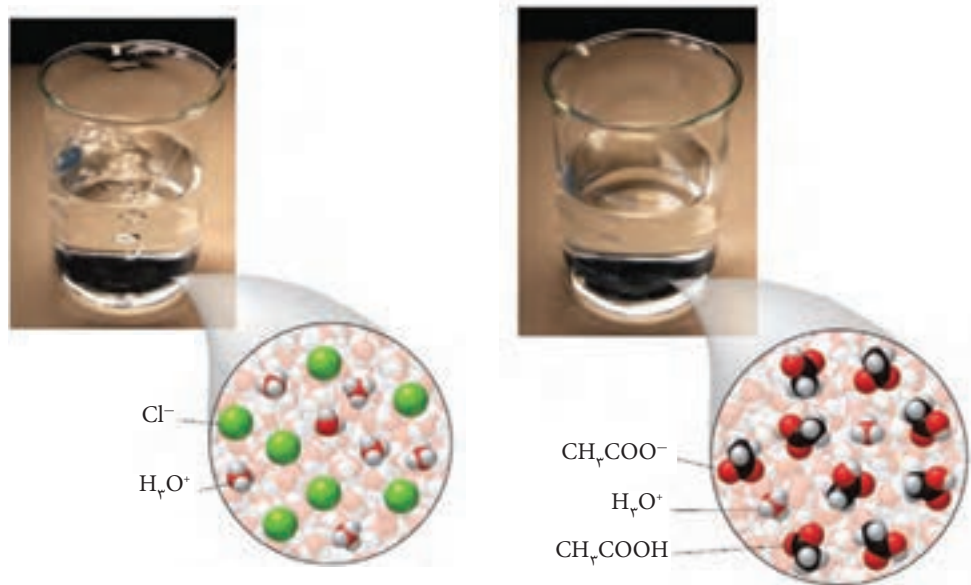


پی بردید که هر اندازه غلظت یکی از یون های هیدرونیوم یا هیدروکسید در محلولی بیشتر شود به همان نسبت از دیگری کاسته خواهد شد، تا حاصل ضرب غلظت این یون ها در دمای اتاق برابر  $10^{-14}$  شود. با این توصیف برای محلول  $0.1 \text{ molL}^{-1} \text{ HCl}$  می توان نوشت:



### خود را بیازمایید

۱- در دما و غلظت یکسان pH کدام محلول زیر کمتر است؟ چرا؟



۲- جدول زیر را کامل کنید.

درصد یونش	pH	[OH <sup>-</sup> ]	[H <sup>+</sup> ]	غلظت محلول	نام محلول
				۰/۰۰۴	هیدروکلریک اسید
۲/۵				۰/۰۰۴	هیدروفلوئوریک اسید
	۳/۷				نیتریک اسید
	۱۰/۵۲				نمونه‌ای از آب یک دریاچه

## بازها محلول‌هایی با $14 < \text{pH} < 7$

بازهای معروفی مانند سود سوزآور (NaOH) و پتاس سوزآور (KOH) بسیار قوی هستند به طوری که موادی خورنده به شمار می‌روند. در محلول آبی این مواد  $[\text{OH}^-] > [\text{H}^+]$  و pH محلول آنها در دمای اتاق در گستره ۷ تا ۱۴ خواهد بود. بدیهی است که هر چه غلظت یون هیدروکسید در محلول آنها بیشتر باشد، pHها بزرگ‌تر و به ۱۴ نزدیک‌تر است. برای نمونه pH محلول ۱ مولار سدیم هیدروکسید برابر با ۱۴ است (چرا؟).  
بازها کاربردهای گسترده‌ای در زندگی روزانه دارند که از جمله آنها می‌توان به شیشه پاک‌کن و لوله بازکن اشاره کرد (شکل ۹).

## آیا می‌دانید

واژه قلیا به معنی خاکستر باقی‌مانده از سوختن گیاهان است که چربی‌ها را در خود حل می‌کند. قلیاها، بازهای محلول در آب هستند. فلزهای گروه ۱ در جدول دوره‌ای به فلزهای قلیایی معروف اند زیرا اغلب ترکیب‌های آنها در آب خاصیت بازی یا قلیایی دارد.



● بازها نیز همانند اسیدها ثابت یونش دارند که آن را با  $\text{K}_b$  نمایش می‌دهند. بدیهی است در دما و غلظت یکسان هر چه  $\text{K}_b$  بزرگ‌تر باشد، آن باز قوی‌تر است.

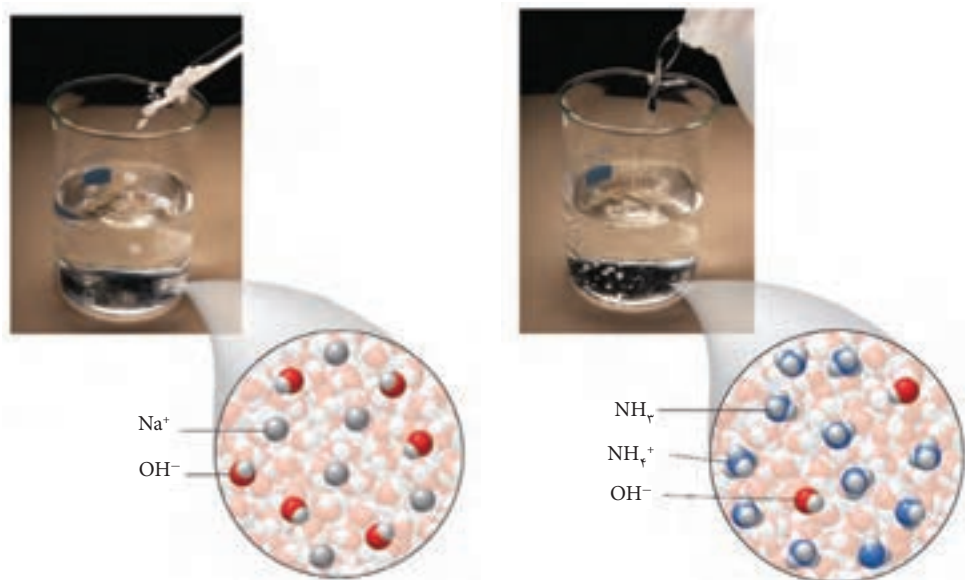
## آیا می‌دانید

بازهای آلی مانند آمین‌ها، اندکی در آب یونیده می‌شوند و از جمله بازهای ضعیف به‌شمار می‌آیند.

شکل ۹- pH دو نمونه از محلول بازی در دما و غلظت یکسان (آ) حاوی سدیم هیدروکسید (ب) حاوی آمونیاک

آمونیاک از جمله بازهای ضعیف<sup>۱</sup> است. به طوری که در محلول آن افزون بر مقدار کمی از یون‌های آب پوشیده، شمار بسیاری از مولکول‌های آمونیاک نیز یافت می‌شود (شکل ۱۰).

● آمونیاک به دلیل تشکیل پیوندهای هیدروژنی در آب به طور عمده به شکل مولکولی حل می‌شود و می‌توان برای آن فرمول  $\text{NH}_3\text{OH}(\text{aq})$  را در نظر گرفت. محلولی که یک سامانه تعادلی است.



شکل ۱- نمای ذره‌ای از محلول‌های سدیم هیدروکسید و آمونیاک

## خود را بیازمایید

۱- شکل‌های زیر رسانایی الکتریکی دو محلول بازی را نشان می‌دهند. با توجه به آن به

پرسش‌ها پاسخ دهید.



(۱)

(۲)

آ) کدام محلول نشان‌دهنده باز ضعیف‌تری است؟ چرا؟

ب) پیش‌بینی کنید کدام محلول می‌تواند به عنوان لوله بازکن استفاده شود؟ چرا؟

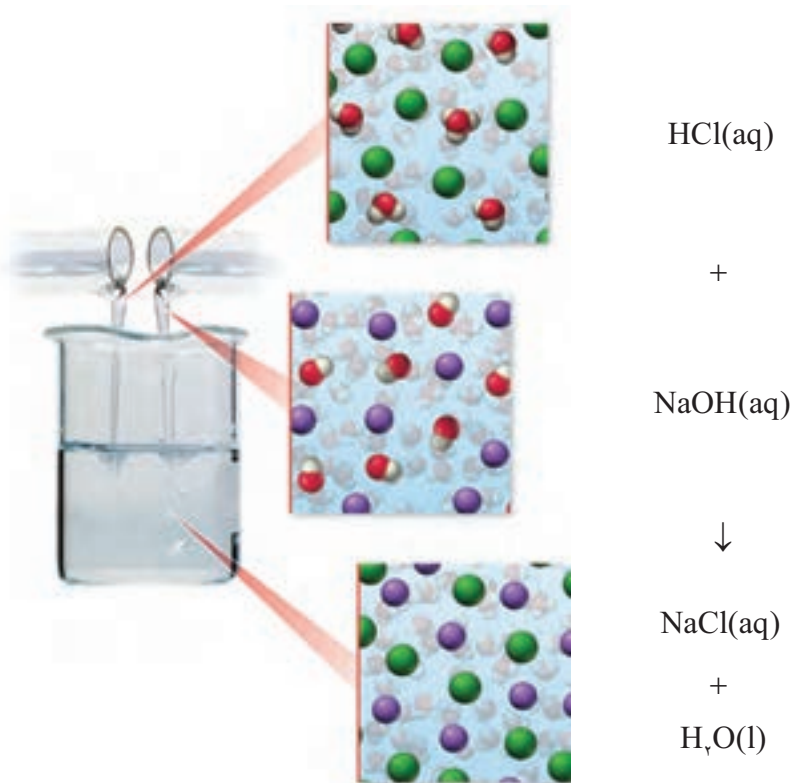
۲- اگر در  $100$  میلی‌لیتر از یک محلول  $2\%$  مول از پتاسیم هیدروکسید وجود داشته باشد:

آ) غلظت یون هیدروکسید را در این محلول حساب کنید.

ب) حساب کنید pH سنج دیجیتال چه عددی را برای این محلول نشان می‌دهد؟

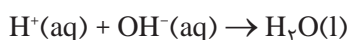
## شوینده‌های خورنده چگونه عمل می‌کنند؟

با برخی رفتارهای اسیدها و بازها آشنا شدید. یکی از رفتارهای جالب و پرکاربرد آنها واکنش‌های شیمیایی است که بین این دو دسته از مواد انجام می‌شود. برای نمونه به واکنش بین محلول هیدروکلریک اسید با سدیم هیدروکسید توجه کنید (شکل ۱۱).



شکل ۱۱- نمای ذره‌ای از یک واکنش اسید-باز

اگر با دقت این معادله شیمیایی را بررسی کنید در می‌یابید که یون‌های هیدرونیوم در واکنش با یون‌های هیدروکسید به مولکول‌های آب تبدیل می‌شوند در حالی که یون‌های  $\text{Na}^+(\text{aq})$  و  $\text{Cl}^-(\text{aq})$  دست نخورده باقی می‌مانند. به همین دلیل می‌توان معادله واکنش میان اسید و بازهایی از این دست را به صورت زیر نمایش داد. معادله‌ای که نشان‌دهنده واکنش خنثی شدن<sup>۱</sup> اسید و باز است.



این واکنش مبنایی برای کاربرد شوینده‌ها و پاک‌کننده‌هاست. برای نمونه فرض کنید که مسیر لوله‌ای با مخلوطی از اسیدهای چرب مسدود شده است. برای باز کردن این لوله باید از محلول غلیظ سدیم هیدروکسید استفاده کرد. معادله واکنش‌هایی که انجام می‌شود را می‌توان به شکل کلی زیر نمایش داد.



● هنگام استفاده از محلول غلیظ سدیم هیدروکسید به عنوان لوله‌بازکن، رعایت نکات ایمنی ضروری است، زیرا تماس این محلول با بدن و تنفس بخارات آن آسیب جدی به دنبال دارد.

## آیا می‌دانید

محلول استیک اسید یک پاک‌کننده بوده و خاصیت ضدعفونی‌کنندگی نیز دارد. استفاده از این اسید و محلول‌های اسیدی دیگر برای پاک کردن سنگ مرمر مناسب نیست زیرا سبب می‌شود لایه‌ای از سنگ مرمر با این اسیدها واکنش داده و سطح سنگ خورده شود.

فراورده چنین واکنش‌هایی، خود نوعی پاک‌کننده است که در آب حل می‌شود و می‌تواند چربی‌های اضافی را بزدايد. اما چرا برای باز کردن برخی لوله‌ها و مجاری از محلول غلیظ هیدروکلریک اسید استفاده می‌شود؟ بدیهی است موادی که سبب گرفتگی این لوله‌ها و مجاری می‌شوند، خاصیت بازی دارند، به طوری که روی دیواره لوله‌ها و مجاری به شکل رسوب به جای مانده‌اند. در این حالت، لوله بازکن در واکنش با این رسوب‌ها، فراورده‌های محلول در آب یا گازی تولید می‌کند و از این راه سبب جرم‌گیری در آنها می‌شوند.

## پیوند با زندگی

شاید در نزدیکان شما نیز کسانی باشند که از سوزش سینه یا ترش شدن دهان و گلو رنج می‌برند. آیا می‌دانید این درد و مزه ترش ناشی از چیست؟ چگونه می‌توان آن را کاهش داد یا درمان کرد؟ معده برای گوارش غذا به اسید نیاز دارد. خوردن غذا سبب می‌شود که غده‌های موجود در دیواره معده، هیدروکلریک اسید ترشح کنند.

در بدن انسان بالغ روزانه بین دو تا سه لیتر شیر معده تولید می‌شود که غلظت یون هیدرونیوم در آن حدود  $3 \times 10^{-3} \text{ mol L}^{-1}$  است. در واقع درون معده یک محیط بسیار اسیدی است و حتی می‌تواند فلز روی را در خود حل کند! دیواره داخلی معده به طور طبیعی مقدار کمی از یون‌های هیدرونیوم را دوباره جذب می‌کند. این جذب سبب نابودی سلول‌های سازنده دیواره معده می‌شود. حال اگر مقدار اسید معده به هر دلیل بیش از اندازه باشد، شمار یون‌های جذب شده افزایش یافته و سبب درد، التهاب و گاهی خونریزی معده می‌شود. مصرف غذاها و داروهای اسیدی سبب تشدید بیماری‌های معده می‌شود. از این رو کسانی که به این بیماری‌ها مبتلا هستند افزون بر کاهش مصرف این مواد باید از داروهای دیگری استفاده کنند. یکی از داروهایی که مصرف آن موجب کاهش pH شیر معده می‌شود آسپرین با فرمول ساختاری زیر است (شکل ۱۲).

## آیا می‌دانید

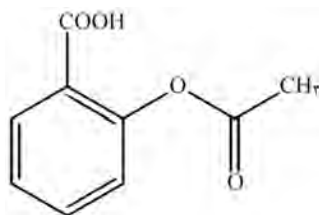
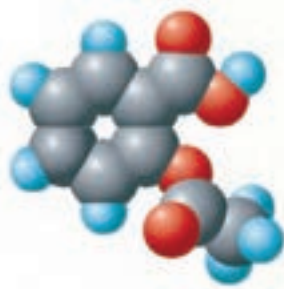
برگشت شیر معده به مری، ریفلاکس معده نام دارد که سبب ایجاد بوی ترش در گلو و دهان می‌شود. ساده‌ترین روش درمان آن افزایش وعده‌های غذایی و کاهش حجم هر وعده غذایی است.



pH شیر معده به اندازه‌ای است که سبب می‌شود در هر دقیقه حدود نیم میلیون یاخته از بافت دیواره آن از بین برود.

## آیا می‌دانید

سرايه مصرف آسپرین در جهان در حدود ۱۰ قرص است، به طوری که سالانه در حدود ۶۵۰۰۰۰۰۰۰۰۰ قرص آسپرین در انواع گوناگون در جهان مصرف می‌شود. مصرف روزانه یک قرص حاوی ۸۰ میلی‌گرم آسپرین سبب می‌شود بیماران قلبی مشکلات کمتری داشته باشند.



(آ)

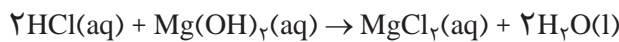


(ب)

شکل ۱۲- الف) فرمول ساختاری و مدل فضا پرکن آسپرین ب) قرص‌های آسپرین

آسپرین سبب تشدید سوزش معده و خونریزی آن می‌شود. مصرف دیگر داروها همچون آسپرین افزون بر خاصیت درمانی، کم و بیش با عوارض جانبی همراه است. بدیهی است برای کاهش عوارض جانبی داروها باید راهکارهایی یافت. به نظر شما راه درمان و کاهش این ناراحتی‌ها چیست؟

**ضداسیدها<sup>۱</sup>** داروهایی هستند که برای این منظور توسط پزشکان تجویز می‌شود. شیر منیزی یکی از رایج‌ترین آنهاست که شامل منیزیم هیدروکسید است. این دارو با اسید معده به شکل زیر واکنش داده و آن را خنثی می‌کند و سبب کاهش اسید معده می‌شود.



جدول زیر مواد مؤثر موجود در ضداسیدهای گوناگون را نشان می‌دهد.

شماره ضداسید	۱	۲	۳
ماده مؤثر	$\text{Al}(\text{OH})_3$ , $\text{NaHCO}_3$	$\text{Al}(\text{OH})_3$ , $\text{Mg}(\text{OH})_2$	$\text{NaHCO}_3$

## خود را بیازمایید

۱- pH شیر معده را حساب کنید (غلظت یون هیدرونیوم در آن حدود  $3 \times 10^{-3} \text{ mol L}^{-1}$  است).  
 ۲- در زمان استراحت pH معده برابر با  $3/7$  است. غلظت یون هیدرونیوم را در این حالت حساب کنید.

۳- با توجه به ویژگی و کاربرد سدیم هیدروژن کربنات (جوش شیرین) مطابق جدول بالا:  
 (آ) پیش‌بینی کنید که محلول سدیم هیدروژن کربنات چه خاصیتی دارد؟ چرا؟  
 (ب) توضیح دهید چرا برای افزایش قدرت پاک کردن چربی‌ها، به شوینده‌ها جوش شیرین می‌افزایند؟

در این فصل آموختید که مصرف مناسب مواد شوینده و پاک‌کننده در پیشگیری از بیماری‌ها مؤثر است. همچنین مصرف درست و به موقع داروها سبب درمان بیماری‌ها می‌شود. این توصیف نشان می‌دهد که نوع و میزان ارائه خدمات بهداشتی، دارویی و درمانی نقش تعیین‌کننده‌ای در سطح سلامت جامعه دارد. از این‌رو می‌تواند بر شاخص امید به زندگی اثر داشته باشد.



## تمرین‌های دوره‌ای

۱- برای هر یک از موارد زیر دلیلی بیاورید.

(آ) اسیدها و بازها با ثابت یونش کوچک، الکترولیت ضعیف به شمار می‌روند.

(ب) اغلب اسیدها و بازهای شناخته شده ضعیف هستند.

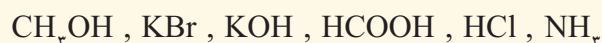
(پ) در محلول ۰/۱ مولار نیتریک اسید در دمای اتاق،  $[NO_3^-] = 0.1 \text{ mol L}^{-1}$  است.

(ت) در محلول ۰/۱ مولار از فورمیک اسید  $[HCOOH] > [H^+]$  است.

۲- کاغذ pH بر اثر آغشته شدن به نمونه‌ای از یک محلول، به رنگ سرخ در می‌آید. همچنین رسانایی

الکتریکی این محلول در شرایط یکسان به طور آشکاری از محلول آبی سدیم کلرید کمتر است. این محلول

محتوی کدام ماده حل‌شونده می‌تواند باشد؟ توضیح دهید.

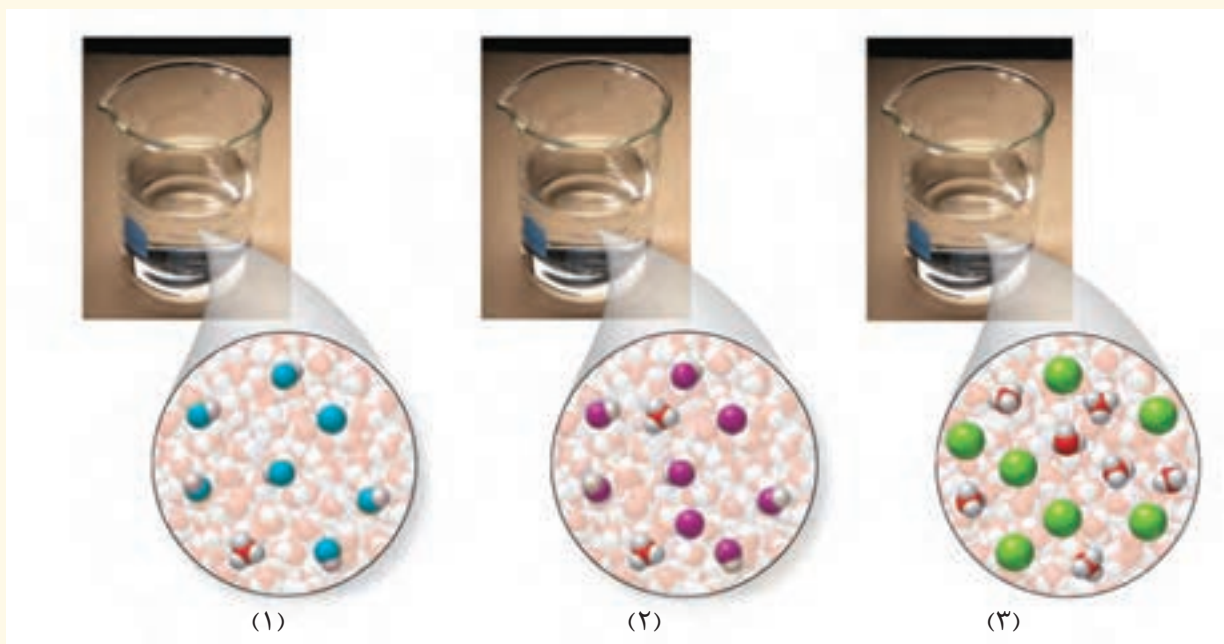


۳- در دما و غلظت یکسان، هر یک از شکل‌های زیر به کدام یک از محلول‌ها تعلق دارد؟ چرا؟

(آ) محلول استیک اسید ( $K_a = 1.8 \times 10^{-5}$ ).

(ب) محلول هیدروبرمیک اسید ( $K_a$  بسیار بزرگ).


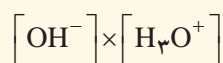
(پ) محلول هیدروسیانیک اسید ( $K_a = 4.9 \times 10^{-10}$ ).



۴- رنگ گل ادریسی به میزان اسیدی بودن خاک بستگی دارد. این گل در خاکی که غلظت یون هیدرونیوم آن  $2 \times 10^{-5} \text{ molL}^{-1}$  است به رنگ آبی اما در خاک دیگری که غلظت یون هیدرونیوم  $4 \times 10^{-9} \text{ molL}^{-1}$  است به رنگ سرخ شکوفامی شود. pH این دو نوع خاک را حساب کنید.

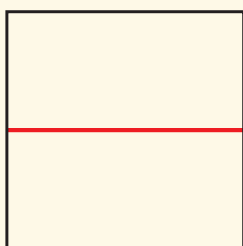


۵- دانش آموزی برای نشان دادن ارتباط بین حاصل ضرب غلظت یون های هیدرونیوم و هیدروکسید با حجم محلول، شکل های آ تا پ را پیشنهاد داده است.

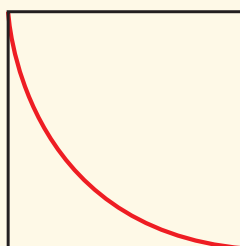


(آ)

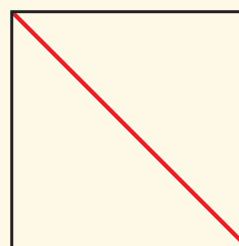
کدامیک از این شکل ها ارتباط بین کمیت های داده شده را به درستی نشان می دهد؟



(ت)



(پ)



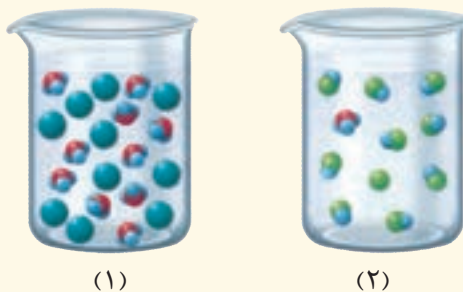
(ب)

۶- در نمونه ای از عصاره گوجه فرنگی، غلظت یون هیدرونیوم  $4 \times 10^{-6}$  برابر غلظت یون هیدروکسید است. pH آن را حساب کنید و در جای خالی بنویسید.



۷-pH یک نمونه از آب سیب برابر با ۴/۷ است. نسبت غلظت یون‌های هیدرونیوم به یون‌های هیدروکسید را در این نمونه حساب کنید.

۸- هر یک از شکل‌های زیر ۵۰ میلی لیتر از محلول آبی یک حل شونده را نشان می‌دهد.



(ا) این حل شونده‌ها اسید آرنیوس هستند یا باز آرنیوس؟ چرا؟

(ب) درجه یونش و pH را برای هر یک از آنها حساب کنید (هر ذره را ۱۰۰٪ مول از آن گونه در نظر بگیرید).

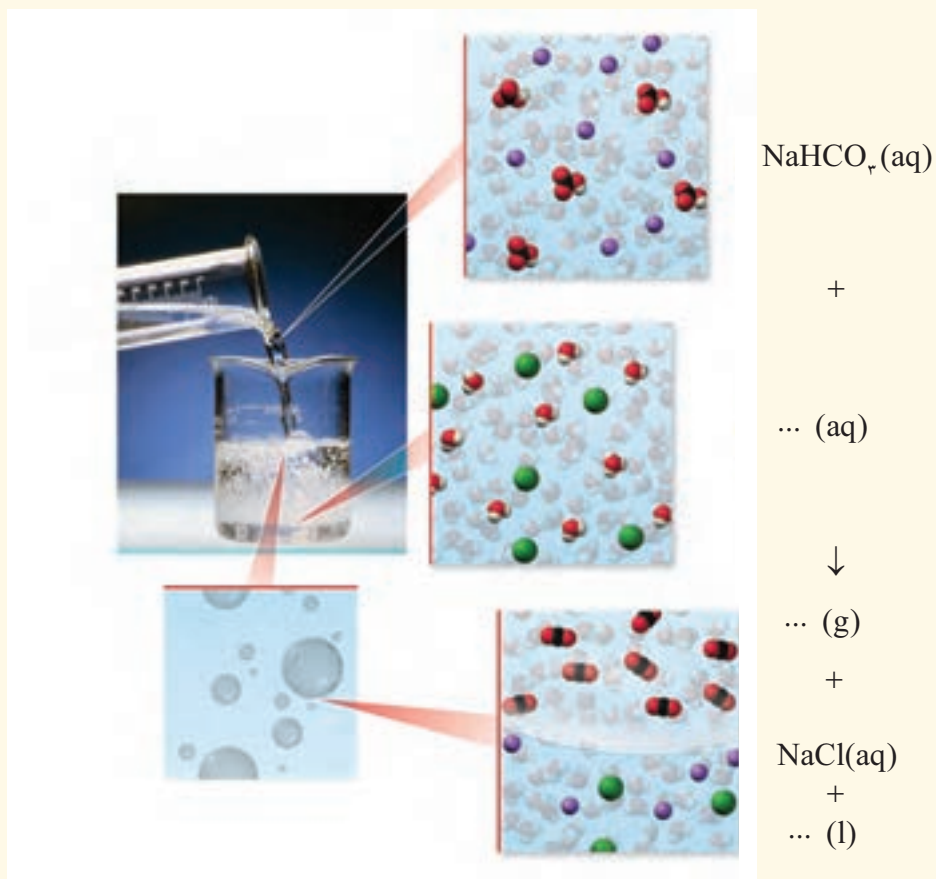
۹- HX و HY دو اسید ضعیف هستند. اگر ۱۲ گرم از HX و ۸ گرم از HY جداگانه در یک لیتر آب حل شوند، pH این دو محلول برابر خواهد شد. با مقایسه درجه یونش آنها مشخص کنید کدام اسید قوی‌تری است؟ چرا؟  
( $1 \text{ mol HX} = 150 \text{ g}$ ,  $1 \text{ mol HY} = 50 \text{ g}$ )

۱۰- با توجه به شکل حساب کنید، چه جرمی از هر ماده حل شونده به ۲۰۰ لیتر آب افزوده شده است؟ (از تغییر حجم چشم‌پوشی کنید).



(۱) ←  $? \text{gHNO}_3$       آب خالص       $? \text{gKOH}$  → (۲)

۱۱- با توجه به شکل زیر که نمای ذره‌ای از یک واکنش را نشان می‌دهد، به پرسش‌ها پاسخ دهید.



آ) هر یک از جاهای خالی را با فرمول شیمیایی مناسب پر کنید.

ب) از واکنش ۱۰۰ میلی لیتر از محلول هیدروکلریک اسید ۱٪ مول بر لیتر با مقدار کافی از سدیم هیدروژن

کربنات چند لیتر گاز کربن دی‌اکسید در STP تولید می‌شود؟